

إهداء الأستاذ/ أحمد بدير عبد العاطي

سلاح التلميذ

منذ عام ١٩٦٠

اللغة العربية

نماذج اختبارات نهاية الفصل الدراسي الأول



2022 - 2021

الصف الرابع الابتدائي

4

نماذج اختبارات نهاية الفصل الدراسي الأول - الصف الرابع الابتدائي (اللغة العربية) (٢٠٢١ - ٢٠٢٢م)

نموذج ١

السؤال الأول اقرأ، ثم أجب:

من وسائل التواصل قديماً وحديثاً تبادل الرسائل، في بادئ الأمر استخدم الإنسان الحمام الزاجل لينقل رسائله، ولكن كان ذلك يستغرق وقتاً طويلاً، ثم مضى الزمان، وظهرت خدمة البريد التي تطورت بعد ابتكار التلغراف، وأصبحت الرسائل تصل في وقت أسرع، والآن يمكنك أن ترسل رسالة لأي شخص ترغب في التواصل معه بضغطة زر واحدة، بعدما تفرغ من كتابتها، وبالأخص بعد ظهور الإنترنت، من خلال الهاتف المحمول الذي أصبح في متناول يد الجميع. كل ذلك التطور بفضل تكاتف العلماء وإسهاماتهم في تيسير حياة الإنسان.

أ استخرج من الفقرة:

١ مَعْنَى «تريد»: ٢ مضاداً «تبدأ»:

ب ضع علامة (✓) أمام العبارة الصحيحة، وعلامة (X) أمام العبارة غير الصحيحة:

١ تحدّث الكاتب عن أنواع الهواتف. ()
٢ مرّ تبادل الرسائل بمراحل تطور عديدة. ()

ج ما الاختراعات التي أثّرت في تطور تبادل الرسائل؟

السؤال الثاني اختر الإجابة الصحيحة:

- ١ «العمل واجب». كلمة (واجب) اسم؛ لأن فيها
(تنويناً - تاءً مربوطة - ال)
- ٢ ينظف الشارع.
(العاملون - العاملين - العاملين)
- ٣ «الملابس رخيصة». كلمة (رخيصة)
(مبتدأ - خبر - فاعل)
- ٤ قرأ الرسالة.
(الموظفان - الموظفَيْن - الموظفِين)
- ٥ حضرتُ معرضاً للأسر المنتجة (، / ! / .)
- ٦ قال المعلم (؟ / . / :) الحل الوسط يزيل الخلافات.



السؤال الثالث اقرأ، ثم أجب:

قال الشاعر:

هل تعرفون مصرنا؟
تلك التي في أرضها
الدهر يحكي مجدها
إننا الفدا يا أرضنا
وحُبها بقلبنا
لا يستكين عزمنا
ونيلها فؤادنا
وذي يدي لمن بنى

أ اختر الإجابة الصحيحة:

(هذان - هاتان - هذه - هؤلاء)
(أفئدة - فوائد - مفيد - فائدة)

١ مَعْنَى «ذي»:
٢ جمع «فؤاد»:

ب أجب بالمطلوب:

١ أكمل: هاتِ كلمة من الأبيات لها النهاية نفسها: «قلبنا»،
٢ تخير: «الدهر يحكي مجدها» تعبير (حقيقي - مجازي)

ج كيف عبّر الشاعر عن حبه لبلده مصر؟

السؤال الرابع أجب عما يلي:

أ اقرأ، ثم أكمل:

دَقَّت الساعة الثامنة، فاستيقظت وارتديت ملابسى سريعاً، وتوجّهت إلى غرفة أُمي فوجدت أنها مستعدة للخروج، فاليوم المباراة النهائية لأختي هند في كأس مصر لكرة السرعة، وقد سبقتنا إلى النادي مع والدي. ذهبنا إلى النادي، وبدأت المباراة، كان اللقاء ساخناً، وتمكنت هند من الفوز بكأس البطولة. فرحنا بفوزها، وذهبنا لتهنئتها، وقلْتُ في نفسي: أرجو أن أكون بَطْلَة مثل أختي هند.

١ الحدث:
٢ مكان الحدث:
٣ الجملة الختامية:

ب اكتب بخط النسخ:

يفخر المصريون بتاريخهم وحضاراتهم.



نموذج ٢

السؤال الأول: اقرأ، ثم أجب:

رَكِبَ خالد القطار مع والده، وفي الطريق شَرِبَ خالد عصيرًا، وبعد أن فَرَّغَ ألقى العُلبَة تحت الكرسي، انتَبَهَ الأبُ لذلك، ودار بينهما الحوار الآتي:

الأب: تخيّلْ معي يا خالد لو كل راكب ألقى ورقة في القطار، ماذا سيحدث؟
سكت خالد قليلًا، ثم قال: فهمتُ ما تريد يا أبي، سأضع العُلبَة في سلّة القمامة.

الأب: أحسنتَ يا خالد؛ فهناك علاقة متينة بين تصرفاتنا ومشكلاتنا، وربما يبدو الأمر صغيرًا، ولكن حين يفعله الكثيرون يصبح كبيرًا؛ كرة الثلج تكون في بادئ الأمر صغيرة وتنتهي كبيرة، وهكذا كل مشكلات حياتنا، أرجو أن تفهم الدرس، وكن كالفراشة أثرك لا يُرى ولكنه لا يزول.

١ استخرج من الحوار:

١ مَعْنَى «قوية»:
٢ مَضَادَّ «نهاية»:

ب ضَعْ علامة (✓) أمام العبارة الصحيحة، وعلامة (X) أمام العبارة غير الصحيحة:

١ المشكلة تُشَبِّه كرة الثلج. ()
٢ نصح الأب ابنه بأن يكون كالطيور المهاجرة. ()

ج ما الدرس الذي تعلّمه خالد في القطار؟

السؤال الثاني: اختر الإجابة الصحيحة:

- ١ «شهادة الميلاد وثيقة رسمية». كلمة (شهادة) اسم؛ لأن فيها (نداء - تاء مربوطة - ال)
- ٢ حصل المتفوقان على جائزة. (الطالِبَين - الطالبان - الطلاب)
- ٣ فَحَصَتِ المرضى. (الطبيبات - الطبيبات - الطبيبتين)
- ٤ مفيدٌ. (الكتاب - الكتاب - الكتاب)
- ٥ يجب أن تعرف حقوقك وواجباتك (/ ، / ؟)
- ٦ هل قرأت الكتاب (/ ؟ / !)



السؤال الثالث اقرأ، ثم أجب:

قال الشاعر:

هـيا بنا جميعنا
بعزمنا وحُبنا
من خيرها غلالنا
أقولها بقوة
تَساندوا يا أهلنا
نبنِي ونحمي أرضنا
وعزها يحيا بنا
يفدي فؤادي مصرنا

أ اختر الإجابة الصحيحة:

(تنعموا - تعاونوا - تكلموا - تداولوا)
(غلات - مغلول - غلة - غال)

١ مَعْنَى «تَساندوا»:

٢ مفرد «غلال»:

ب أجب بالمطلوب:

١ أكمل: هاتِ كلمةً من الأبياتِ لها النهايةُ نفسها: «جميعنا»،
٢ تخير: «وعزها يحيا بنا» تعبير (حقيقي - مجازي)

ج كيف نبنِي ونحمي الوطن؟

السؤال الرابع أجب عما يلي:

أ اقرأ، ثم أكمل:

منذ ثلاثة أيام ذهبْتُ مع صديقي أحمد إلى المكتبة لشراء بعض الأدوات، اشتريتُ قلمًا جديدًا مصنوعًا من البلاستيك، وفي أعلاه مُجسَّم للكرة الأرضية، اشتريته لأن سعره رخيص جدًا، وشكله جميل، ولكن اكتشفتُ بعد ذلك أن أنبوب الحبر فيه يحتاج إلى تغيير كل أسبوع، وهذا يتطلب الكثير من المال، على أي حال لكل شيء مميزات وعيوبه.

١ شكل القلم:
٢ من مميزاته:
٣ من عيوبه:

ب اكتب بخط النسخ:

بالعمل والجهد نبنِي الوطن.



نموذج ٣

السؤال الأول اقرأ، ثم أجب:

أنا فاطمة، طالبة في الصف الرابع الابتدائي، أعيش مع أسرتي في محافظة سوهاج بصعيد مصر، أتيت مع أمي لأشارك معها في معارض (ديارنا)، وهي معارض أنشئت للاهتمام بالأسر المنتجة، وتهدف إلى تحفيز الأسر من خلال تسويق منتجاتها. أمي ماهرة في مهنة تراثية، فهي تقوم بتطريز الشيلان بخيوط الفضة اللامعة، وحين تعرض أمي منتجاتها يلتف حولنا الجمهور، وتُلقى تلك المنتجات إعجابهم، ويبدو عليهم الانبهار بدقة التطريز. تبيع أمي منتجاتها، وتحصل على أرباح مجزية تسهم في زيادة دخل أسرتنا. أنا فخورة بأمي، وأرجو أن أكون مثلها.

أ استخرج من الفقرة:

١ معنى «تشجيع»: ٢ مضاد «يتفرق»:

ب ضع علامة (✓) أمام العبارة الصحيحة، وعلامة (X) أمام العبارة غير الصحيحة:

- ١ جاءت فاطمة لتشتري منتجات من معارض (ديارنا). ()
٢ تطريز الشيلان من المهن التراثية. ()

ج ما الهدف من إنشاء معارض (ديارنا)؟

.....

السؤال الثاني اختر الإجابة الصحيحة:

- ١ الجنديان في المعركة. (شجاعتان - شجاعان - شجاعين)
٢ يحرس الوطن. (الجنود - الجنود - الجنود)
٣ أمهات مثاليات. (أنت - أنتما - أنتن)
٤ «السما صافية». كلمة (السما) (فاعل - مبتدأ - خبر)
٥ ما أجمل التعاون (! / . / ،)
٦ هل تعرف جنسية مُخترع رياضة كرة السرعة (، / . / ؟)



السؤال الثالث اقرأ، ثم أجب:

قال الشاعر:

أوطاننا تحيا بنا
بالحب نحيها هنا
لن تستكين أرضنا
وذي يدي يا شعبنا
والعزم يبني حُلْمنا
نجني الغلال والهنا
نحن الفدا لأهلنا
نحمي تراب مصرنا

أ اختر الإجابة الصحيحة:

(الإرادة - الفدا - الغلال - التراب)
(غلة - غلات - غالية - غال)

١ مَعْنَى «العزم»:
٢ مفرد «غلال»:

ب أجب بالمطلوب:

١ أكمل: هاتِ كلمةً من الأبيات لها النهاية نفسها: «حُلْمنا»
٢ تخير: «والعزم يبني حُلْمنا» تعبير (حقيقي - مجازي)

ج ضع عنوانا مناسباً للنشيد السابق.

السؤال الرابع أجب عما يلي:

أ اقرأ، ثم أكمل:

كلنا أبناء مصر

تهتم الدولة المصرية بأبنائها من ذوي الاحتياجات الخاصة، وتحرص على أن يحصلوا على جميع حقوقهم. وذوو الاحتياجات الخاصة هم الأشخاص الذين يحتاجون إلى معاملة خاصة؛ لإصابتهم بنوع من الإعاقة. ويبدو هذا الاهتمام في إصدار القوانين التي تساعد في العيش مع أفراد المجتمع، وتقليل ساعات العمل لهم، وتوفير التأمين الصحي لهم، وإلى جانب ذلك تقوم الدولة بتكريم أصحاب الإنجازات منهم. إن هذا الاهتمام يساعد على أن يحيا ذوو الاحتياجات الخاصة حياة كريمة مساوية لغيرهم من أبناء الوطن؛ فكلنا أبناء مصر.

١ المقدمة:
٢ الفكر:
٣ الخاتمة:

ب اكتب بخط النسخ:

أطفال اليوم رجال الغد.



نموذج ٤

السؤال الأول اقرأ، ثم أجب:

صديقي حازم..

تحية طيبة، وبعد:

فأرجو أن تكون بخير، أكتب لك هذه الرسالة؛ لأعتذر لك عن الموقف الأخير الذي حدث بيننا، فقد مضى بعض الوقت وفكرت كثيراً فيما حدث، قيّمتُ الموقف جيداً، ووجدتُ أن الجِدال اشتدَّ بيننا، واستغرق وقتاً طويلاً بلا فائدة، وبدلاً من الجِدال كان يجب علينا أن نتحاور معاً؛ لتزول الخلافات ونصل إلى حلٍّ وَسَطٍ يُرضي جميع الأطراف، ويصبح كلانا رابحاً. أرجو أن يلاقي هذا الاعتذار قبُولاً منك.

صديقك أحمد

أ استخرج من الفقرة:

١ مَعْنَى «أَتَمَنَّى»:

٢ مضادّ «ضَعَفَ»:

ب ضَعْ علامة (✓) أمام العبارة الصحيحة، وعلامة (X) أمام العبارة غير الصحيحة:

()

١ هذه الرسالة اعتذار من أحمد لصديقه حازم.

()

٢ كتب أحمد هذه الرسالة؛ لأن والده نصّحه بذلك.

ج ما الذي توصّل إليه أحمد بعد أن قيّم الموقف؟

السؤال الثاني اختر الإجابة الصحيحة:

١ عائدون لأوطانهم.

(المهاجرون - المهاجران - المهاجرين)

٢ حضّرت إلى فصولهن مبكراً.

(المعلمات - المعلمين - المعلمات)

٣ ابتكر وسائل مواصلات سريعة.

(العلماء - العلماء - العلماء)

٤ «شجّع المعلم التلميذ». الجملة السابقة جملة

(اسمية - فعلية - استفهامية)

٥ أنا رابح (. / ؟ / ،) وأنت رابح.

٦ قالت الأم (؟ / : / ،) جهزوا حقائبكم؛ السفر غداً صباحاً.



السؤال الثالث: اقرأ، ثم أجب:

قال الشاعر:

إذا الأرض نادت أتينا جميعاً
سنحيا الدهور نقيها سهاماً
بتلك السواعد نجني غلالاً
بعزم نساند من يفتديها
نلبي نداها ونرجو رضاها
ونبني قصوراً لها من ثراها
ونبقى شمساً تضيء سماها
ونهدي الجميع حب عطائها

أ اختر الإجابة الصحيحة:

- ١ مَعْنَى «نَرْجُو»: (نتمنى - نبني - نحيا - نبقى)
- ٢ مفرد «السواعد»: (الساعد - المساعدة - السعيد - المسعود)

ب أجب بالمطلوب:

- ١ أكمل: هات كلمة من الأبيات لها النهاية نفسها: «رضاها»، (حقيقي - مجازي)
- ٢ تخير: «إذا الأرض نادت» تعبير

ج ماذا نفعل عندما ينادي الوطن علينا؟

السؤال الرابع: أجب عما يلي:

أ اقرأ، ثم أكمل:

١٢ فبراير ٢٠٢٢ م
طلب تأجيل اختبار
الأستاذ عادل..

تحية طيبة.. وبعد:

بخصوص اختبار الشهر، أحيط سيادتكم علماً بأنني سأقوم بإجراء عملية جراحية في يوم اختبار اللغة العربية؛ ولذا أرجو من سيادتكم التكرم بالموافقة على تأجيل الاختبار بعد إجراء العملية. وتفضلوا بقبول فائق الاحترام والتقدير.

الطالب ماجد سمير

- ١ المرسل والمرسل إليه:
- ٢ التاريخ والتحية:
- ٣ موضوع الرسالة:

ب اكتب بخط النسخ:

الحُبُّ للجميع، والخير للجميع.



نموذج 0

السؤال الأول اقرأ، ثم أجب:

طلب معلم الرسم منا أن نرسم لوحة، ولكي يحفّزنا على الرسم أخبرنا أنه سيختار أجمل لوحة؛ ليدور حولها النقاش، وسيعلقها في فناء المدرسة. فرسمت لوحة لسيناء الغالية، تبدو فيها الجبال الشاهقة، وأسراب من الطيور تحلق في سمائها، ونخيل يتدلى منه التمر، ورجال يتكاتفون معاً لجمع غلال الأرض. وبعد أن فرغت من الرسم عرضت اللوحة على المعلم ليقيمها، وقد لاقيت اللوحة إعجاب الجميع، وقال المعلم للطلاب: «إن هذه اللوحة تنمُّ عن حب ياسين لوطنه مصر، وبالأخص سيناء الحبيبة».

أ استخرج من الفقرة:

١ مَعْنَى «يُشجّعنا»:
٢ مضادّ «المنخفضة»:

ب ضع علامة (✓) أمام العبارة الصحيحة، وعلامة (X) أمام العبارة غير الصحيحة:

- ١ سيعلق المعلم اللوحة الأجمل في فناء المدرسة. ()
٢ رسم ياسين بعض المتاحف الموجودة بسيناء. ()

ج ما الدليل على حب ياسين لوطنه؟

.....

السؤال الثاني اختر الإجابة الصحيحة:

- ١ مواطنون مخلصون. (أنت - أنتما - أنتم)
٢ زار المتحف. (السائح - السائحون - السائحات)
٣ الطلابُ ناجحون. كلمة (الطلابُ) اسم؛ لأن فيها (ال - تنويناً - تاء مربوطة)
٤ قرأ الكتاب. (الطالبين - الطالبان - الطالبتين)
٥ ما أروع هذه القصة (، / . / !)
٦ أنا أحب الرسم (، / ، / :) وأختي تحب القراءة.



السؤال الثالث: اقرأ، ثم أجب:

قال الشاعر:

النَّيْلُ قَالَ صَادِقًا
يُبْنَى الْعُلَا بِعَزْمِنَا
تَسَّانِدِي أَكْفَنَّا
نَحْنُ الْفِدَا لِأَرْضِنَا
لِمِصْرِنَا سَتَسَّعِدِي
وَوَحْدَةَ السَّوَاعِدِ
الْخَيْرُ جَاءَ فَاحْصِدِي
نَقُولُهَا وَذِي يَدِي

أ اختر الإجابة الصحيحة:

- ١ مَعْنَى «تساندي»: (تعاوني - اسلمي - اسعدي - احصدي)
٢ مفرد «السواعد»: (المساعد - الساعد - الأسعد - المسعود)

ب أجب بالمطلوب:

- ١ أكمل: هاتِ كلمةً من الأبيات لها النهاية نفسها: «ستسعدي»،
٢ تخير: «النيل قال صادقاً» تعبير (حقيقي - مجازي)

ج استخرج من الأبيات ما يدل على الوحدة والتعاون.

السؤال الرابع: أجب عما يلي:

أ اقرأ، ثم أكمل:

أحمد شوقي شاعر مصري عظيم، لقب بـ «أمير الشعراء». وُلد بالقاهرة عام ١٨٦٨ م، ونشأ في رعاية جدته لأمه. درس شوقي الترجمة، ثم سافر بعدها إلى فرنسا ليكمل دراسته. كان شوقي صاحب موهبة شعرية عظيمة، وتناول في شعره موضوعات مختلفة، ووصل عدد أبيات شعره إلى أكثر من ٢٣ ألف بيت من الشعر. واختاره الأدباء والشعراء أميراً لهم في حفل أقيم عام ١٩٢٧ م، وأرى أنه يستحق هذا التقدير، وفي عام ١٩٣٢ م رحل شوقي عن عالمنا، ولكنه لم يرحل عن قلوبنا.

- ١ الاسم واللقب:
٢ أهم الإنجازات:
٣ رأي الكاتب:

ب اكتب بخط النسخ:

الحل الوسط يجعل الجميع رابحين.



سلاح التنظيم

منذ عام ١٩٦٠

اللغة العربية

إجابات نماذج اختبارات نهاية الفصل الدراسي الأول



2022 - 2021

الصف الرابع الابتدائي

4

إجابات نماذج اختبارات نهاية الفصل الدراسي الأول - الصف الرابع الابتدائي
(اللغة العربية) (٢٠٢١ - ٢٠٢٢ م)

إجابة نموذج ١

السؤال الأول اقرأ، ثم أجب:

أ استخرج من الفقرة:

- ١ ترغب ٢ تفرغ

ب ضع علامة (✓) أمام العبارة الصحيحة، وعلامة (X) أمام العبارة غير الصحيحة:

١ (X)

٢ (✓)

ج التلغراف والإنترنت والهاتف المحمول . (أي إجابة تؤدي المعنى نفسه مقبولة)

السؤال الثاني اختر الإجابة الصحيحة:

١ تنوياً ٢ العاملون

٣ خبر ٤ الموظفان

٥ . ٦ :

السؤال الثالث اقرأ، ثم أجب:

أ اختر الإجابة الصحيحة:

١ هذه ٢ أفئدة

ب أجب بالمطلوب:

١ مصرنا / عزمنا / فؤادنا / أرضنا ٢ مجازي

ج قال الشاعر إنه يحب مصر ونيها، وإنه سيضحى بنفسه من أجلها، ويتعاون مع من يبني الوطن.
(أي إجابة تؤدي المعنى نفسه مقبولة)

السؤال الرابع أجب عما يلي:

أ اقرأ، ثم أكمل:

١ الحدث: فوز هند بكأس مصر لكرة السرعة.

٢ مكان الحدث: النادي.

٣ الجملة الختامية: أرجو أن أكون بطلة مثل أختي هند.

ب اكتب بخط النسخ: أجب بنفسك.



إجابة نموذج ٢

السؤال الأول: اقرأ، ثم أجب:

أ استخرج من الحوار:

١ متينة

٢ بادئ

ب ضع علامة (✓) أمام العبارة الصحيحة، وعلامة (X) أمام العبارة غير الصحيحة:

١ (✓)

٢ (X)

ج تعلم أن هناك علاقة متينة بين تصرفاتنا ومشكلاتنا، وأنه ربما يبدو الأمر صغيراً، ولكن حين يفعله الكثيرون يصبح كبيراً.
(أي إجابة تؤدي المعنى نفسه مقبولة)

السؤال الثاني: اختر الإجابة الصحيحة:

١ تاء مربوطة

٢ الطالبان

٣ الطبيبات

٤ الكتاب

٥ .

٦ ؟

السؤال الثالث: اقرأ، ثم أجب:

أ اختر الإجابة الصحيحة:

١ تعاونوا

٢ غلة

ب أجب بالمطلوب:

١ أهلنا / عزمنا / حبنا / أرضنا / غلالنا / مصرنا

٢ مجازي

ج نبني ونحمي الوطن بالعزم والحب والتعاون.

(أي إجابة تؤدي المعنى نفسه مقبولة)

السؤال الرابع: أجب عما يلي:

أ اقرأ، ثم أكمل:

١ شكل القلم: مصنوع من البلاستيك، وفي أعلاه مجسم للكرة الأرضية.

٢ من مميزات: سعره رخيص جداً، وشكله جميل.

٣ من عيوبه: أنبوب الحبر فيه يحتاج إلى تغيير كل أسبوع.

ب اكتب بخط النسخ: أجب بنفسك.



إجابة نموذج ٣

السؤال الأول اقرأ، ثم أجب:

أ استخرج من الفقرة:

١ تحفيز

٢ يلتف

ب ضع علامة (✓) أمام العبارة الصحيحة، وعلامة (X) أمام العبارة غير الصحيحة:

١ (X)

٢ (✓)

ج أنشئت هذه المعارض للاهتمام بالأسر المنتجة، وتحفيزها من خلال تسويق منتجاتها.
(أي إجابة تؤدي المعنى نفسه مقبولة)

السؤال الثاني اختر الإجابة الصحيحة:

١ شجاعان

٢ الجنود

٣ أنتن

٤ مبتدأ

٥ !

٦ ؟

السؤال الثالث اقرأ، ثم أجب:

أ اختر الإجابة الصحيحة:

١ الإرادة

٢ غلة

ب أجب بالمطلوب:

١ الهنا / أرضنا / أهلنا / شعبنا / مصرنا

٢ مجازي

ج أجب بنفسك.

السؤال الرابع أجب عما يلي:

أ اقرأ، ثم أكمل:

١ المقدمة: تهتم الدولة المصرية بأبنائها من ذوي الاحتياجات الخاصة، وتحرص على أن يحصلوا على جميع حقوقهم.

٢ الفكر: تعريف ذوي الاحتياجات الخاصة، مظاهر الاهتمام بهم، تكريم الأبطال منهم.

٣ الخاتمة: إن هذا الاهتمام يساعد في أن يحيا ذوو الاحتياجات الخاصة حياة كريمة مساوية لغيرهم من أبناء الوطن؛ فكلنا

أبناء مصر.

ب اكتب بخط النسخ: أجب بنفسك.



إجابة نموذج ٤

السؤال الأول

اقرأ، ثم أجب:

أ استخرج من الفقرة:

١ أرجو

٢ اشتدّ

ب ضع علامة (✓) أمام العبارة الصحيحة، وعلامة (X) أمام العبارة غير الصحيحة:

١ (✓)

٢ (X)

ج توصّل إلى أنه لا بد من التّحاور؛ لتزول الخلافات والوصول إلى حلّ وسطٍ يرضي جميع الأطراف.
(أي إجابة تؤدي المعنى نفسه مقبولة)

السؤال الثاني

اختر الإجابة الصحيحة:

٢ المعلمات

١ المهاجرون

٤ فعلية

٣ العلماء

٦ :

٥ ،

السؤال الثالث

اقرأ، ثم أجب:

أ اختر الإجابة الصحيحة:

٢ الساعد

١ نتمنى

ب أجب بالمطلوب:

١ نداها / ثراها / سماها / عطاها

٢ مجازي

ج نلبي نداء الوطن، ونرجو رضاه، ونحميه من الأعداء، ونبني أرضه ونعمرها.
(أي إجابة تؤدي المعنى نفسه مقبولة)

السؤال الرابع

أجب عما يلي:

أ اقرأ، ثم أكمل:

١ المرسل والمرسل إليه: المرسل: الطالب ماجد سمير، والمرسل إليه: الأستاذ عادل.

٢ التاريخ والتحية: التاريخ: ٢١ فبراير ٢٠٢٢م، التحية: تحية طيبة.

٣ موضوع الرسالة: طلب تأجيل اختبار اللغة العربية.

ب اكتب بخط النسخ: أجب بنفسك.



إجابة نموذج ٥

السؤال الأول اقرأ، ثم أجب:

أ استخرج من الفقرة:

١ يحفزنا

٢ الشاهقة

ب ضع علامة (✓) أمام العبارة الصحيحة، وعلامة (X) أمام العبارة غير الصحيحة:

١ (✓)

٢ (X)

ج الدليل على حب ياسين لوطنه أنه اختار أن يرسم لوحة لجزء من الوطن، وهو سيناء الحبيبة.
(أي إجابة تؤدي المعنى نفسه مقبولة)

السؤال الثاني اختر الإجابة الصحيحة:

١ أنتم

٢ السائحون

٣ ال

٤ الطالبان

٥ !

٦ ،

السؤال الثالث اقرأ، ثم أجب:

أ اختر الإجابة الصحيحة:

١ تعاوني

٢ الساعد

ب أجب بالمطلوب:

١ السواعد / فاحصدي / يدي / تساندي

٢ مجازي

ج عبر الشاعر عن التعاون والوحدة بقوله: "وحدة السواعد - تساندي أكفنا - نقولها وذي يدي".
(أي إجابة تؤدي المعنى نفسه مقبولة)

السؤال الرابع أجب عما يلي:

أ اقرأ، ثم أكمل:

١ الاسم واللقب: أحمد شوقي - أمير الشعراء.

٢ أهم الإنجازات: وصل عدد أبيات شعره إلى أكثر من ٢٣ ألف بيت من الشعر. واختاره الأدباء والشعراء أميراً لهم.

٣ رأي الكاتب: يرى أنه يستحق هذا التقدير.

ب اكتب بخط النسخ: أجب بنفسك.





إهداء الأستاذ/ أحمد بدير عبد العاطي



سلاح التلميذ

منذ عام ١٩٦٠

Connect

English book

نماذج اختبارات الفصل الدراسي الأول



2022

الصف الرابع الابتدائي

4



إهداء الأستاذ/ أحمد بدير عبد العاطي



Test 1

Question 1 Choose the correct answer from a, b, or c:

1. A daisy is than a lotus.
a. taller b. the tallest c. tallest
2. We produce vegetables like and potatoes.
a. bananas b. onions c. watermelon

Question 2 Match:

- | | |
|---|---|
| a. Your brother can't breathe. | 1. to be careful. |
| b. A fisherman goes out on his boat | 2. Hit him on the back with your hand open. |
| c. To avoid danger means | 3. to catch fish. |

Question 3 Read the passage and answer the questions:

I'm Ahmed. I live in an apartment with my family. My grandparents live in a cave. The rooms of their house are in the rock. My friend lives in a houseboat. It's small, but he loves living on water. My uncle is a scientist. He lives in a tent in the desert. It's made of cloth. I love living in our apartment because it has a balcony. I can see the whole street.

(A) Put (✓) or (X):

1. Ahmed lives in a cave. ()
2. His friend lives in a houseboat. ()

(B) Answer the following questions:

3. Where does his uncle live?
.....

Question 4 Look and answer:



1. What does he do?
.....



2. Where does an orange tree live?
.....



Test 2

Question 1 Choose the correct answer from a, b, or c:

1. straight ahead. Turn left. It's behind the post office.
a. Go b. Jump c. Turn
2. A farmer looks after the
a. turbines b. trees c. rocks

Question 2 Match:

- | | |
|---|------------------------------------|
| a. An engineer makes sure the wind turbines | 1. thick fur. |
| b. The fennec fox has | 2. but I like fruit. |
| c. I eat candy, | 3. turn well and make electricity. |

Question 3 Read the passage and answer the questions:

Being a mail carrier is interesting. On one hand, a mail carrier delivers our letters and packages, so he speaks to a lot of people. On the other hand, a mail carrier wakes up very early. He can have some health problems like a backache because the mail bag is heavy.

(A) Put (✓) or (X):

1. A mail carrier delivers our letters and packages. ()
2. A mail carrier doesn't speak to a lot of people. ()

(B) Answer the following questions:

3. Why does a mail carrier have a backache?

Question 4 Look and answer:



1. Where do seeds grow?
.....



2. What's this?
.....



Test 3

Question 1 Choose the correct answer from a, b, or c:

1. The red flowers are the ones.
 - a. beautiful
 - b. most beautiful
 - c. more beautiful
2. The pelican has a yellow to catch fish with.
 - a. paw
 - b. feather
 - c. beak

Question 2 Match:

- | | |
|------------------------------|-------------------------|
| a. The shoots grow | 1. made of cloth. |
| b. Crocodiles are more | 2. dangerous than fish. |
| c. A tent is a house | 3. above the soil. |

Question 3 Read the passage and answer the questions:

The steppe eagle travels from Europe to Africa in winter. It lives in very big, open areas. It eats other birds, small mammals and rabbits. When it opens its wings, it's longer than you! The female is bigger and heavier than the male.

(A) Put (✓) or (X):

1. The male steppe eagle is smaller than the female. ()
2. The steppe eagle travels from Africa to Europe in winter. ()

(B) Answer the following questions:

3. Where does a steppe eagle live?

Question 4 Look and answer:



1. What does he do?



2. Who is this?



Test 4

Question 1 Choose the correct answer from a, b, or c:

- I play basketball I play football in the park.
a. and b. or c. but
- The roots grow the soil.
a. next to b. under c. above

Question 2 Match:

- | | |
|---------------------------------|---------------------------------|
| a. To do something again | 1. explain history to tourists. |
| b. A bus driver helps you | 2. is to redo. |
| c. A guide's job is to | 3. get to school on time. |

Question 3 Read the passage and answer the questions:

A plant is made of millions of cells. The plant cells are very, very small. Chloroplasts make the plant green. You can only see them with a microscope. The green plant cells make food for the plant. They use sunlight, carbon dioxide and water.

(A) Put (✓) or (X):

- The plant cells are very big. ()
- Chloroplasts make the plant green. ()


(B) Answer the following questions:

- How do the plant cell make food?
.....

Question 4 Look and answer:



- Is a tent made of cloth?
.....



- What's this?
.....



Test 5

Question 1 Choose the correct answer from a, b, or c:

1. Electricians electricity to our houses.
a. connect b. build c. help
2. are the plumbers' tools.
a. This b. These c. That

Question 2 Match:

- | | |
|--------------------------------------|------------------------------------|
| a. A houseboat is | 1. the coldest season of the year. |
| b. Winter is | 2. are fruits. |
| c. Grapes, mangoes and bananas | 3. a small house in the water. |

Question 3 Read the passage and answer the questions:

We use our respiratory system when we breathe. We breathe in air through our nose. Our diaphragm goes down. It pulls air into our lungs. In the lungs, the oxygen from the air goes into our blood. The diaphragm goes up. It pushes air with carbon dioxide out of our lungs.

(A) Put (✓) or (X):

1. We breathe in air through our ear. ()
2. When the diaphragm goes up, It pushes air with carbon dioxide out of our lungs. ()

(B) Answer the following questions:

3. What happens when the diaphragm goes down?

Question 4 Look and answer:



1. How many lungs do we have in our body?



2. Where's the bed?



سلاح التنميط

منذ عام ١٩٦٠

Connect

English book

إجابات نماذج اختبارات الفصل الدراسي الأول



2022

الصف الرابع الابتدائي

4

Test 1 Answers

Question 1

1. (a) 2. (b)

Question 2

- a. (2) b. (3) c. (1)

Question 3

1. (X) 2. (✓)
3. He lives in a tent in the desert..

Question 4

1. He builds houses. 2. In an agriculture habitat.

Test 2 Answers

Question 1

1. (a) 2. (b)

Question 2

- a. (3) b. (1) c. (2)

Question 3

1. (✓) 2. (X) 3. Because the mail bag is heavy.

Question 4

1. They grow under the soil. 2. It's a houseboat.

Test 3 Answers

Question 1

1. (b) 2. (c)

Question 2

- a. (3) b. (2) c. (1)

Question 3

1. (✓) 2. (X) 3. It lives in very big, open areas.

Question 4

1. He looks after trees. 2. He's a plumber.



Test 4 Answers

Question 1

1. (a) 2. (b)

Question 2

- a. (2) b. (3) c. (1)

Question 3

1. (X) 2. (✓) 3. They use sunlight, carbon dioxide and water.

Question 4

1. Yes, it is. 2. It's a watermelon.

Test 5 Answers

Question 1

1. (a) 2. (b)

Question 2

- a. (3) b. (1) c. (2)

Question 3

1. (X) 2. (✓)
3. It pulls air into our lungs.

Question 4

1. We have two lungs. 2. It's in the bedroom.



إهداء الأستاذ/ أحمد بدير عبد العاطى

سلاح التلميذ

منذ عام ١٩٦٠

الرياضيات

مراجعات على الفصل الدراسي الأول



2022-2021

الصف الرابع الابتدائي

4

الاختبار 1

السؤال الأول اختر الإجابة الصحيحة من بين الإجابات المعطاة :

1 مربع طول ضلعه S سم ، فإن محيطه يكون سم .

- أ $4 + s$ ب $4s$
ج $s + s$ د $s + s + s$

2 زجاجة سعتها 3 لترات . ما عدد المليترات التي تحتوى عليها الزجاجة ؟

- أ 3 ب 300
ج 3,000 د 30,000

3 $34 \times 30 =$

- أ 1,020 ب 102
ج 920 د 92

4 قالت سمر : إن العدد 7 من عوامل العدد 28 . هل سمر على صواب ؟

- أ نعم ، لأن العدد 28 من عوامل العدد 7 ب نعم ، لأن العدد 7 مضاعف للعدد 28
ج لا ، لأن العدد 7 ليس مضاعفاً للعدد 28
د نعم ، لأن عوامل العدد 28 هي : 1 ، 2 ، 4 ، 7 ، 14 ، 28

5 26,000 تساوى ضعف 26

- أ 10 ب 100
ج 1,000 د 10,000

السؤال الثانى أكمل ما يلى :

6 القيمة المكانية للرقم 2 فى العدد 425,107 هى

7 $489,611 - 39,986 =$

8 $65,701,433 + 1,842,779 =$

9 $7 + 7 + 7 + 7 + 7 =$ \times =

10 $912 \div 3 =$



السؤال الثالث صل كل فقرة بما يناسبها :

- 11 المضاعف المشترك لجميع الأعداد هو
 أ 2
 ب 1
 ج 0
 د 3
- 12 العامل المشترك لجميع الأعداد هو
 أ 2
 ب 1
 ج 0
 د 3
- 13 العدد الوحيد الأولي والزوجي معاً هو
 أ 2
 ب 1
 ج 0
 د 3

السؤال الرابع ضع علامة (✓) أمام العبارة الصحيحة ، وعلامة (X) أمام العبارة الخاطئة :

- 14 ملعب على شكل مستطيل طوله 8 م ، وعرضه 5 م ، فإن مساحته تساوي 40 م² ()
- 15 $21,765 = 200,000 + 1,000 + 700 + 60 + 5$ ()
- 16 5 أسابيع ويومان = 37 يوماً . ()

السؤال الخامس أجب عن الأسئلة التالية :

- 17 قرّب العدد 2,781,654,991 إلى أقرب مليار .

- 18 كوّن صيغة عددية في مئات الألوف أكبر من خمسمائة وسبعين ألفاً ، ومائتين وتسعين .

- 19 اكتب 3 مضاعفات مشتركة للعددين : 4 ، 5

- 20 يوجد صندوقان لحفظ الأقلام الملونة في الفصل ، بكل صندوق يوجد 5 من علب الأقلام ، وبكل علبة يوجد 8 أقلام .
 ما عدد الأقلام الملونة بالصندوقين ؟



الاختبار 2

السؤال الأول اختر الإجابة الصحيحة من بين الإجابات المعطاة :

1 680 مائة = ألف .

- أ 68 ب 680
ج 6,800 د 68,000

2 مستطيل مساحته 48 سم² ، وطوله 8 سم ، يكون محيطه سم .

- أ 6 ب 14
ج 42 د 28

3 يساوي 3 أضعاف 12

- أ 9 ب 36
ج 4 د 15

4 أى من الأعداد التالية تكون قيمة الرقم 4 تساوي 400,000 ؟

- أ 34,587,116 ب 97,428
ج 4,710 د 32,405,566

5 متر = 9,300 ديسم .

- أ 93 ب 930
ج 9,300 د 93,000

السؤال الثاني أكمل ما يلي :

6 5 لترات - 3,200 ملل = ملل .

7 $142,006 + 63,822 =$

8 $96,881 - 36,504 =$

9 $3,168 \div 6 =$

10 $24 \times 36 =$



السؤال الثالث صل كل فقرة بما يناسبها :

- 11) $18 - x = 6$ ، فإن $x =$
 أ 24
 ب 12
 ج 3
 د 6
- 12) 1 يوم = ساعة .
 ب 12
- 13) العامل المشترك الأكبر للعددين 12 ، 6 هو
 ج 3
- د 6

السؤال الرابع ضع علامة (✓) أمام العبارة الصحيحة ، وعلامة (X) أمام العبارة الخاطئة :

- 14) مساحة مربع طول ضلعه 8 سم ، تساوى 81 سم².
 ()
- 15) تقريب العدد 152,411 إلى أقرب ألف يساوى 2,000
 ()
- 16) العنصر المحايد الضربى هو الصفر .
 ()

السؤال الخامس أجب عن الأسئلة التالية :

- 17) اشترت فاطمة 15 كيلوجراماً من الطماطم ، وكان سعر الكيلوجرام الواحد 5 جنيهاً .
 فكم دفعت فاطمة ثمناً للطماطم ؟

- 18) فى ألعاب الفيديو حصلت سلمى على 566 نقطة ، وحصلت نرمين على 359 نقطة .
 ما إجمالى عدد النقاط التى حصلت عليها سلمى ونرمين معاً ؟

19) رتب الأعداد التالية تنازلياً :

مائة وخمسون ألفاً ، 92,000 ، 105,647 ، 92 مليوناً

20) اكتب الصيغة التحليلية للعدد : 870,504



الاختبار 3

السؤال الأول اختر الإجابة الصحيحة من بين الإجابات المعطاة :

1 أي مما يلي يمثل خاصية العنصر المحايد الضربي ؟

ب $3 \times 4 = 4 \times 3$

أ $1 \times 8 = 8$

د $2 + 0 = 2$

ج $2 \times 0 = 0$

2 قيمة الرمز d في المعادلة $d + 8,000 = 8,324$ هي

ب 324

أ 16,324

د 342

ج 8,000

3 تقدير العدد 5,946 من خلال أول رقم من اليسار هو

ب 6,000

أ 5,000

د 6,900

ج 5,900

4 3 كم ، 560 مترًا <

ب 39,000 متر

أ 35,060 مترًا

د 4 كم ، 15 مترًا

ج 2 كم ، 830 مترًا

5 مساحة مربع طول ضلعه 7 سم = سم²

ب 14

أ 49

د 21

ج 28

السؤال الثاني أكمل ما يلي :

6 أصغر عدد مُكوّن من الأرقام 5 ، 0 ، 6 ، 1 ، 3 هو

7 $5,025 \div 5 =$

8 $12,360 - 3,840 =$

9 $19 \times 15 =$

10 36 تساوي 4 أضعاف العدد



السؤال الثالث صل كل فقرة بما يناسبها :

11) 1 مليار $100,000,000 + 7,000,000 + 200$ أ >

12) 300 ثانية 5 دقائق . ب <

13) 45×1 45×0 ج =

د لا شيء مما سبق .

السؤال الرابع ضع علامة (✓) أمام العبارة الصحيحة ، وعلامة (X) أمام العبارة الخطأ :

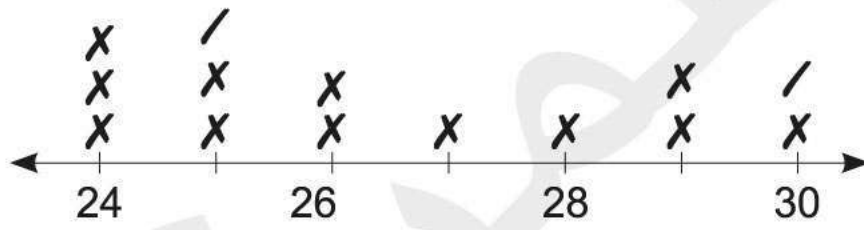
14) العامل المشترك الأكبر للعددين 48 ، 54 هو 2 ()

15) تقريب العدد 5,498 إلى أقرب مائة يساوي 5,598 ()

16) $8 \times 900 = 6 \times 2,000$ ()

السؤال الخامس أجب عن الأسئلة التالية :

17) إذا كان الطول الكلي لسور يحيط بحديقة يساوي 120 مترًا ، وكان طول الحديقة يساوي 35 مترًا . احسب مساحة الحديقة .



18) التمثيل البياني بالنقاط المقابل يوضح درجات الامتحان لمجموعة من التلاميذ . ما مجموع عدد التلاميذ الذين حصلوا على الدرجة 24 ، والدرجة 27 ؟

19) مع محمود 9 أقلام ، ومع كريم 27 قلمًا . كم مرة يماثل عدد الأقلام التي مع كريم عدد الأقلام التي مع محمود ؟

20) اكتب الصيغة القياسية للعدد : خمسة وتسعين مليونًا وأحد عشر ألفًا وثلاثمائة وأربعين .



الاختبار 4

السؤال الأول اختر الإجابة الصحيحة من بين الإجابات المعطاة :

1 أي مما يلي عدد أولي ؟

- أ 9
ب 27
ج 13
د 1

2 أي من خواص الجمع التالية تُستخدم لحل المسألة : $6,541 + 0$ ؟

- أ الدمج .
ب الإبدال .
ج العنصر المحايد الجمعي .
د لا شيء مما سبق .

3 عامل من عوامل العدد 35

- أ 3
ب 7
ج 4
د 2

4 14 مترًا و 12 سم = سم .

- أ 1,412
ب 14,012
ج 1,214
د 140,012

5 حديقة مربعة الشكل مساحتها 64 م² ، فإن طول ضلعها = م .

- أ 8
ب 4
ج 16
د 9

السؤال الثاني أكمل ما يلي :

6 $60 \times 30 =$

7 $500,211,006 + 32,005,411 =$

8 تقريب العدد 2,398,410 لأقرب مائة ألف =

9 $7,216 \div 8 =$

10 في النموذج الشريطي المقابل قيمة n =

67,280	
n	35,280



السؤال الثالث صل كل فقرة بما يناسبها :

- 11) 6 كجم و 550 جرامًا = جرامًا .
 أ 655
 12) 10 ساعات و 55 دقيقة = دقيقة .
 ب 6,550
 13) تقدير العدد 6,998 من خلال أول رقم من جهة اليسار هو
 ج 7,000
 د 6,000

السؤال الرابع ضع علامة (✓) أمام العبارة الصحيحة ، وعلامة (X) أمام العبارة الخطأ :

- 14) 1 مليار – 500 مليون = 500 مليون ()
 15) إذا كان : $6 \times b = 54$ ، فإن : $b = 9$ ()
 16) 328 يُمثل رقمًا . ()

السؤال الخامس أجب عن الأسئلة التالية :

- 17) أوجد العامل المشترك الأكبر للعددين : 25 ، 15

 18) قامت مجموعة من السائحين برحلة إلى أهرامات الجيزة ، وتكونت المجموعة من 153 سائحًا ، و 7 مرشدين ، فإذا استخدمت المجموعة سيارات ، تسع كل منها 8 أشخاص ، فما عدد السيارات التي يحتاجون إليها بحيث يستطيع الجميع الوصول إلى الأهرامات ؟

 19) اكتب الصيغة الممتدة للعدد 4,510,327

 20) إذا كانت المسافة بين منزل نورا ، ومحطة القطار تساوي 5 أضعاف المسافة بين منزلها والمدرسة ، فإذا كانت المسافة بين المنزل والمدرسة تساوي 1,300 متر ، فما هي المسافة بين المنزل ومحطة القطار ؟



الاختبار 5

السؤال الأول اختر الإجابة الصحيحة من بين الإجابات المعطاة :

1 أي مما يلي عاملان مشتركان للعددين 15 و 25 ؟

- أ 1 و 3
ب 1 و 15
ج 1 و 25
د 1 و 5

2 معادلة الضرب التي تُعبر عن $6 + 6 + 6 + 6 = 24$ هي

- أ $3 \times 8 = 24$
ب $6 \times 4 = 24$
ج $12 \times 2 = 24$
د $24 \times 1 = 24$

3 468,113 لأقرب مائة ألف

- أ 400,000
ب 468,000
ج 500,000
د 470,000

4 العامل المشترك الأكبر للعددين 18 و 27 هو

- أ 3
ب 6
ج 9
د 45

5 7 لترات - 6,840 ملل = ملل .

- أ 60
ب 1,160
ج 160
د 480

السؤال الثاني أكمل ما يلي :

6 6,700 مائة تساوى ضعف 67

7 $1,831 \times 4 =$

8 $54,091 + 31,700 =$

9 مربع محيطه 40 سم ، فإن طول ضلعه = سم .

10 الصيغة القياسية للعدد : اثنين وعشرين مليوناً وخمسة آلاف وسبعة هي



السؤال الثالث صل كل فقرة بما يناسبها :

أ 40,000

11 $20,000 \times 2 = \dots\dots\dots$

ب 4,000

12 10×4 عشرات = $\dots\dots\dots$

ج 400

13 4 كجم = $\dots\dots\dots$ جرام .

د 40

السؤال الرابع ضع علامة (✓) أمام العبارة الصحيحة ، وعلامة (X) أمام العبارة الخطأ :

()

14 جميع الأعداد الفردية أولية .

()

15 26 مضاعف للعدد 2

()

n	
1,472	2,400

16 في النموذج الشريطي المقابل قيمة $n = 928$

السؤال الخامس أجب عن الأسئلة التالية :

4 520

17 أوجد ناتج القسمة للمسألة المقابلة :

.....

18 قطعة أرض مربعة الشكل طول ضلعها 15 م . أوجد مساحتها .

.....

19 رتب الأعداد التالية ترتيباً تصاعدياً :

2,415,317 ، $1,000,000 + 100,000 + 4,000 + 50$ ، ثلاثة ملايين وسبعمائة ، 600,005

.....

20 تقرأ سارة في المساء لمدة 45 دقيقة يومياً ، فإذا بدأت في أحد الأيام الساعة 6:45 مساءً ،

فمتى انتهت سارة من القراءة ؟

.....



إهداء الأستاذ / أحمد بدير عبد العاطي

سلاح التنظيم

منذ عام ١٩٦٠

الرياضيات

الإجابات النموذجية على مراجعات
الفصل الدراسي الأول



2022-2021

الصف الرابع الابتدائي

4

إجابة الاختبار 1

السؤال الأول :

- 1s 4 (1) 3,000 (2) 1,020 (3) 1,000 (5) 28 6 14 6 7 6 4 6 2 6 1 : نعم ؛ لأن عوامل العدد 28 هي : 28 6 14 6 7 6 4 6 2 6 1

السؤال الثاني :

- 6 عشرات آلاف (6) 449,625 (7) 67,544,212 (8) $7 \times 5 = 35$ (9) 304 (10)

السؤال الثالث :

- 0 (11) 1 (12) 2 (13)

السؤال الرابع :

- ✓ (14) X (15) ✓ (16)

السؤال الخامس :

- 3,000,000,000 (17) 670,290 (18) (توجد إجابات أخرى) 3 مضاعفات مشتركة للعددين 5 و 4 : 20 6 40 6 60 (19) $2 \times 5 \times 8 = 80$ وبالتالي عدد الأقلام الملونة = 80 قلمًا . (20)

إجابة الاختبار 2

السؤال الأول :

- 68 (1) 28 (2) 36 (3) 32,405,566 (4) 930 (5)

السؤال الثاني :

- 1,800 (6) 205,828 (7) 60,377 (8) 528 (9) 864 (10)

السؤال الثالث :

- 12 (11) 24 (12) 6 (13)

السؤال الرابع :

- X (14) X (15) X (16)

السؤال الخامس :

- $15 \times 5 = 75$ (17) وبالتالي ما دفعته فاطمة = 75 جنيهًا . $566 + 359 = 925$ (18) وبالتالي عدد النقاط التي حصلت عليها سلمى ونرمين = 925 نقطة . 92 مليونًا ، مائة وخمسون ألفًا ، 105,647 ، 92,000 (19) $(8 \times 100,000) + (7 \times 10,000) + (5 \times 100) + (4 \times 1)$ (20)



إجابة الاختبار 3

السؤال الأول :

- 1 $1 \times 8 = 8$ 2 324 3 5,000 4 2 كم ، 830 متر 5 49

السؤال الثاني :

- 6 10,356 7 1,005 8 8,520 9 285 10 9

السؤال الثالث :

- 11 < 12 = 13 >

السؤال الرابع :

- 14 X 15 X 16 X

السؤال الخامس :

- 17 $35 = 25 - (120 \div 2)$ وبالتالي عرض الحديقة = 25 مترًا .
وبالتالي فإن مساحة الحديقة = $25 \times 35 = 875$ مترًا مربعًا .
18 عدد التلاميذ الذين حصلوا على الدرجة 24 والدرجة 27 معًا هو 8 تلاميذ .
19 3 أمثال .
20 95,011,340

إجابة الاختبار 4

السؤال الأول :

- 1 13 2 العنصر المحايد الجمعي 3 7 4 1,412 5 8

السؤال الثاني :

- 6 1,800 7 532,216,417 8 2,400,000 9 902 10 32,000

السؤال الثالث :

- 11 6,550 12 655 13 6,000

السؤال الرابع :

- 14 ✓ 15 ✓ 16 X

السؤال الخامس :

- 17 العامل المشترك الأكبر = 5
18 $153 + 7 = 160$ وبالتالي عدد الأشخاص = 160 شخصًا .
 $160 \div 8 = 20$ وبالتالي عدد السيارات = 20 سيارة .
19 $4,000,000 + 500,000 + 10,000 + 300 + 20 + 7$
20 $1,300 \times 5 = 6,500$ وبالتالي المسافة بين منزل نورا والمدرسة = 6,500 متر



إجابة الاختبار 5

السؤال الأول :

- 1 1 و 5 2 $6 \times 4 = 24$ 3 500,000 4 9 5 160

السؤال الثاني :

- 6 10,000 7 7,324 8 85,791 9 10 10 22,005,007

السؤال الثالث :

- 11 40,000 12 400 13 4,000

السؤال الرابع :

- 14 \times 15 \checkmark 16 \times

السؤال الخامس :

- 17 ناتج القسمة = 130

- 18 $15 \times 15 = 225$

وبالتالي فإن مساحة قطعة الأرض = 225 مترًا مربعًا .

- 19 الترتيب التصاعدي :

600,005 ، $1,000,000 + 100,000 + 4,000 + 50$ ، 2,415,317 ، ثلاثة ملايين وسبعمائة

- 20 انتهت سارة من القراءة الساعة : 30 : 7 مساءً .



إهداء الأستاذ/ أحمد بدير عبد العاطي

سلاح التلميذ

منذ عام ١٩٦٠

العلوم

اختبارات على الفصل الدراسي الأول



2022 - 2021

الصف الرابع الابتدائي

4

الاختبار 1

السؤال الأول ضع علامة (✓) أو علامة (X) أمام العبارات التالية:

- 1) تعتمد بعض الحيوانات على الإحساس بالحرارة لاصطياد فرائسها. ()
- 2) تمتلك الأسود أسناناً مستوية لتقطيع اللحوم. ()
- 3) عندما تركل الكرة فإنك تكون بذلت شغلاً. ()
- 4) يعيش النبات ذو الجذور السميكة والطويلة في البيئة المائية. ()

السؤال الثاني اختر الإجابة الصحيحة:

- 1) تشتت أشعة الضوء عندما تنعكس من على
 أ المرآة ب سطح معدني ج لوح خشبي د عدسات النظارة
- 2) عندما تنزل السيارة من أعلى تل فإن
 أ طاقة الحركة تتحول إلى طاقة وضع ب طاقة الوضع تتحول إلى طاقة حركة
 ج لا يحدث تحول في الطاقة د لا تملك السيارة أي طاقة
- 3) الجهاز هو المسئول عن إمداد الجسم بالأكسجين وخروج ثاني أكسيد الكربون.
 أ التنفسي ب الهضمي ج الإخراجي د العصبي
- 4) يتكيف حيوان ذو فراء كثيف على العيش في البيئة
 أ الصحراوية ب الباردة ج العشبية د الحارة

السؤال الثالث أكمل ما يلي:

- 1) يبدأ الهضم في وينتهي في
- 2) يقوم محرك السيارة بتحويل الطاقة في الوقود إلى طاقة حركية.
- 3) يتوقف الجسم عن الحركة عندما تؤثر فيه قوة في المقدار ومعاكسة في الاتجاه.
- 4) يستطيع الكلب تعرّف رائحة اللص بواسطة حاسة

السؤال الرابع صل ما في العمود ب بما يناسبه في العمود أ:

أ	ب
1) الاختباء في الجحور	أ () تكيف تركيبى
2) شكل الأسنان	ب () تكيف سلوكى
	ج () التنفس



ب	أ
أ () عضو التنفس فى الإنسان	1 الأمعاء الدقيقة
ب () عضو التنفس فى الأسماك	2 الخياشيم
ج () هضم الطعام هضمًا كاملاً	

2

السؤال الخامس: أجب عن الأسئلة الآتية:

1 وضع كيف تؤثر كتلة الأجسام فى نتائج التصادم.

.....

.....

.....

2 تتواصل الحيوانات بطرق مختلفة. اذكر إحدى هذه الطرق.

.....

.....

.....

3 سيارة تقطع مسافة 160 كيلومترًا فى ساعتين. كم تكون سرعتها؟

.....

.....

.....

4 حدّد أى الصورتين يمثل طاقة الوضع،

وأيهما يمثل طاقة الحركة؟

أ الصورة (أ) تمثل

ب الصورة (ب) تمثل



ب

أ



الاختبار 2

السؤال الأول ضع علامة (✓) أو علامة (X) أمام العبارات التالية:

- 1 () تنتقل الطاقة عند حدوث اصطدام بين الكرة والمضرب.
- 2 () التلويح باليد لا يعتبر من الشفرات.
- 3 () شكل أقدام الحيوانات المختلفة يعتبر تكييفاً تركيبياً.
- 4 () الاتجاه لا يؤثر على مقدار السرعة.

السؤال الثاني اختر الإجابة الصحيحة:

- 1 ترى صورتك في المرآة بسبب الضوء.
 - أ انعكاس
 - ب انكسار
 - ج نفاد
 - د تشتت
- 2 يسقط القلم من يدك على الأرض بسبب قوة
 - أ الحركة
 - ب الاحتكاك
 - ج الوضع
 - د الجاذبية
- 3 يساعد على ترطيب الطعام وبلعه.
 - أ المريء
 - ب البلعوم
 - ج المخ
 - د اللعاب
- 4 كل مما يلي يعتبر تكييفاً تركيبياً، ما عدا
 - أ بنى اللون
 - ب الأذن طويلة
 - ج اللهث مثل الكلاب
 - د السمع الجيد

السؤال الثالث أكمل ما يلي:

- 1 التباين اللوني يعتبر وسيلة بعض القروش من أجل
- 2 تستقبل الأنف رائحة الطعام، ويترجمها
- 3 الوقت الذي يستغرقه اليربوع للاستجابة للخطر يسمى
- 4 يضغط السائق برفق على دواسة إذا أراد تقليل سرعة السيارة.

السؤال الرابع صل ما فى العمود ب بما يناسبه فى العمود أ:

ب	أ
أ () نبات صحراوى	1 جذور النبات قصيرة وضعيفة
ب () نبات مائى	2 جذور النبات سميكة وأوراقها صغيرة
ج () تمنع الحيوانات من أكلها	



ب	أ
أ () ينسبط الحجاب الحاجز	1 عملية الشهيق
ب () ينقبض الحجاب الحاجز	2 عملية الزفير
ج () عضو التنفس في الأسماك	

2

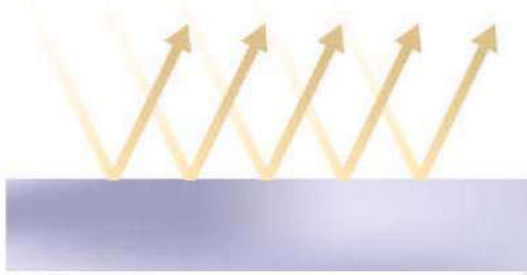
السؤال الخامس: أجب عن الأسئلة الآتية:

- 1 ترسل شجرة السنط روائح كريهة الرائحة للأشجار الأخرى عندما يبدأ حيوان في أكلها. وضح نوع وسبب التكيف.

شجرة السنط	وجه المقارنة
.....	نوع التكيف
.....	سبب التكيف

- 2 عداءان أحدهما يقطع مسافة 10 كيلومترات في الساعة، والآخر يقطع مسافة 6 كيلومترات في الساعة. أيهما أسرع؟ ولماذا؟

.....
.....
.....



- 3 سقط الضوء على سطح ما وانعكس كما ترى في الصورة المقابلة. هل هذا السطح مرآة أم لوح خشبي؟ فسر إجابتك.

.....
.....
.....

- 4 أعط مثلاً لحيوان ما، واذكر ما الحاسة التي يستخدمها للحصول على طعامه؟

.....
.....
.....



الاختبار 3

السؤال الأول ضع علامة (✓) أو علامة (X) أمام العبارات التالية:

- 1 لا نستطيع الرؤية في الظلام الدامس. ()
- 2 تتمتع الحيوانات آكلات اللحوم بقناة هضمية أطول من آكلات العشب. ()
- 3 الطاقة لا تفنى ولا تستحدث من العدم، ولكن تتحول من صورة لأخرى. ()
- 4 إذا لم يفز أى الفريقين فى لعبة شد الحبل فإن القوة المؤثرة تكون متزنة. ()

السؤال الثانى اختر الإجابة الصحيحة:

- 1 تستخدم بعض الحيوانات للتواصل باستخدام حاسة البصر.
 - أ الصدى
 - ب الومضات
 - ج استشعار الحرارة
 - د الأغاني
- 2 كل مما يلي من أمثلة قوة السحب، ما عدا
 - أ شد يد صديقك
 - ب شد الحبل
 - ج الطيور
 - د ركل الكرة
- 3 حيوان يمتلك أسناناً مستوية يمكنه التغذى على
 - أ الأعشاب
 - ب الحيوانات الكبيرة
 - ج الطيور
 - د الحيوانات الصغيرة
- 4 تساعد على خلط الطعام بالإنزيمات الهاضمة.
 - أ الأسنان
 - ب المعدة
 - ج الأمعاء الدقيقة
 - د الأمعاء الغليظة

السؤال الثالث أكمل ما يلي:

- 1 تمتلك بعض النباتات الصحراوية لتمنع الحيوانات البرية من أكلها.
- 2 من أمثلة التكيف التركيبى، بينما من أمثلة التكيف السلوكى.
- 3 وحدة قياس السرعة هى
- 4 لكى تتحرك الأجسام لا بد من وجود

السؤال الرابع صل ما فى العمود ب بما يناسبه فى العمود أ:

أ	ب
1 قوة الجاذبية	أ () تبطئ سرعة الجسم المتحرك
2 قوة الاحتكاك	ب () سحب الأجسام فى اتجاه الأرض
	ج () ارتفاع الأجسام لأعلى



ب	أ
أ () يهضم السكريات	1 المرىء
ب () عضلة تنقبض أو تنبسط أثناء التنفس	2 الحجاب الحاجز
ج () أنبوب يساعد على دفع الطعام	

2

السؤال الخامس أجب عن الأسئلة الآتية:

1 رتب كيف يتم ترجمة المعلومات لتسمع صوت العصفور:

- أ ترسل الأعصاب إشارة إلى المخ ليترجم المعلومة ويصدر رد فعل لها وهو صوت العصفور.
 ب تستقبل الأذن زقزقة العصفور، وتحولها إلى إشارات (نبضات كهربية).
 ج تنتقل الإشارات من الأذن إلى الأعصاب الخاصة بحاسة السمع.

.....

.....

.....

2 تتنفس الكائنات الحية لكي تستطيع البقاء على قيد الحياة.

وضح اختلافًا واحدًا وتشابهًا واحدًا بين الجهاز التنفسي في الإنسان والجهاز التنفسي في الأسماك.

وجه المقارنة	الجهاز التنفسي في الإنسان	الجهاز التنفسي في الأسماك
الاختلاف (عضو التنفس)
التشابه (الغازات)

3 تقطع ندى مسافة 80 كيلومترًا بدراجتها البخارية في ساعتين. احسب سرعتها.

.....

.....

.....

4 أعط مثالًا لتحويل واحد للطاقة الذي يحدث في محرك السيارة؟

.....

.....

.....



الاختبار 4

السؤال الأول ضع علامة (✓) أو علامة (X) أمام العبارات التالية:

- 1 () تمتص الأسماك الأكسجين الذائب في الماء بواسطة الخياشيم.
- 2 () تستطيع بعض الحيوانات التواصل عن طريق الأغاني.
- 3 () أستطيع أن أرى وجهي بوضوح على المرآة لأنها سطح ناعم ولامع.
- 4 () عندما تمسك الكتاب بيدك فإنك تختزن به طاقة وضع.

السؤال الثاني اختر الإجابة الصحيحة:

- 1 كل مما يلي من الأجسام المعتمدة، ما عدا
 أ جسم الإنسان ب الزجاج الشفاف ج الخشب د الورق
- 2 تتواصل بعض الحيوانات عن طريق القيام بحركات تشبه الرقص يمكن
 أ سماعها ب رؤيتها ج شمها د لمسها
- 3 كل مما يلي لديه طاقة حركة، ما عدا
 أ فهذا يلحق بفريسته ب عصفورًا يقف على الشجرة
 ج حصانًا ينط الحواجز في سباق د عداء يجرى في ماراثون للجرى
- 4 أى من المركبات التالية يسبب خسائر أكبر عند تصادمه مع سيارة؟:
 أ شاحنة ب سيارة ج دراجة بخارية د دراجة

السؤال الثالث أكمل ما يلي:

- 1 يمكن غلق درج المكتب باستخدام قوة
- 2 الطاقة الحرارية من صور طاقة بينما الطاقة الكيميائية المخزنة في الطعام من صور طاقة
- 3 تمتلك بعض النباتات بدلاً من الأوراق حتى لا يفقد الماء.
- 4 النبات الذي يمتلك جذورًا طويلة وسميكة يعيش في بيئة

السؤال الرابع صل ما في العمود ب بما يناسبه في العمود أ:

أ	ب
1 هجرة الطيور عند شدة البرودة	أ () تكيف تركيبى
2 الدهون تحت الجلد	ب () قرد التارسير
	ج () تكيف سلوكى



ب	أ
أ () الخياشيم	1 عملية دخول الأكسجين إلى الرئتين
ب () الزفير	2 عملية خروج ثاني أكسيد الكربون من الرئتين
ج () الشهيق	

2



سحلية الصحراء

السؤال الخامس: أجب عن الأسئلة الآتية:

1 انظر إلى صورة السحلية التالية، ثم أجب عن الأسئلة:

أ يعتبر اختباء سحلية الصحراء في الجحور:

تكيفاً

ب لون السحلية الذي يشبه الرمال يعتبر:

تكيفاً

2 لديك حيوانان: الأول يأكل اللحوم، والثاني يأكل الأعشاب.

أيهما يمتلك أسناناً مستوية؟ وأيهما يمتلك أسناناً مدببة وحادة؟

.....

.....

.....

3 قطع السباح الأول 60 متراً في 60 ثانية، بينما قطع السباح الثاني 80 متراً في 60 ثانية.

أيهما أسرع؟ ولماذا؟

.....

.....

.....



الاختبار 5

السؤال الأول ضع علامة (✓) أو علامة (X) أمام العبارات التالية:

- 1 إفراس شجرة الكابوك رائحة جميلة لجذب الخفافيش يعتبر تكيّفًا سلوكيًا. ()
- 2 يستطيع النسر رؤية طعامه من على ارتفاع عالٍ باستخدام حاسة البصر. ()
- 3 يسمح البساط الشفاف للإنسان والحيوانات بالرؤية بوضوح في الليل. ()
- 4 لا يحدث انتقال للطاقة عند تصادم شاحنتين متساويتين في السرعة. ()

السؤال الثاني اختر الإجابة الصحيحة:

- 1 تكون القوى متزنة إذا كانت
 أ غير متساوية في المقدار
 ب متضادة في الاتجاه
 ج متساوية في المقدار ومتضادة في الاتجاه
 د متساوية في المقدار وفي نفس الاتجاه
- 2 كل مما يلي يشتمل أشعة الضوء الساقطة عليه، ما عدا
 أ قالبًا من الطوب
 ب جذع الشجرة
 ج الحائط
 د المرآة
- 3 تزداد سرعة السيارة عندما الطاقة الحركية للسيارة.
 أ تقل
 ب تثبت
 ج تزداد
 د تتناقص للنصف
- 4 من الصفات التي تساعد الحيوان على الدفء في البيئات الباردة
 أ كثافة الفراء
 ب شكل الأطراف
 ج شكل الأسنان
 د شكل العين

السؤال الثالث أكمل ما يلي:

- 1 صيد القرش لفرائسه في الليل والنهار يعتبر تكيّفًا
- 2 تساعد على امتصاص العناصر الغذائية في الجهاز الهضمي.
- 3 عندما تقطع هدى 120 كيلومترًا بسيارتها في ساعتين، تكون سرعتها
- 4 تتوهج عيون القطط في الظلام عند سقوط الضوء عليها بسبب وجود

السؤال الرابع صل ما في العمود ب بما يناسبه في العمود أ:

أ	ب
1 الشفرة	أ () طريقة انتقال الدم في أقدام البطريق
2 تكيف تركيبى	ب () تجمع البطاريق في مجموعات ضخمة متلاصقة
	ج () نمط له معنى مثل الأشكال أو الأرقام



ب	أ
أ () قوة الاحتكاك	1 القوة المسببة لسقوط الأشياء لأسفل
ب () قوة الجاذبية	2 القوة المسببة لقذف الكرة لأعلى
ج () قوة الدفع	

2

السؤال الخامس: أجب عن الأسئلة الآتية:

1 تنقطع الكهرباء كثيرًا ليلاً في منزلك. اقترح أكثر من مصدر للضوء لا يحتاج لكهرباء لاستخدامه.

.....

.....

.....

2 ما الفرق بين تركيب الجهاز الهضمي للبقرة (آكلة عشب)، والجهاز الهضمي للكلب (آكل اللحوم)؟

وجه المقارنة	البقرة (آكلة عشب)	الكلب (آكل لحوم)
المعدة	1	4
القناة الهضمية	2	5
الغذاء	3	6

3 انظر إلى الصورة التي أمامك، ثم أجب:



أ حدّد أي هذه السيارات يمتلك طاقة الوضع، وأيها يمتلك طاقة الحركة؟

.....

.....

ب متى يحتاج السائق للضغط على دواسة الفرامل؟

.....

.....



إهداء الأستاذ/ أحمد بدير عبد العاطى

سلاح التلميذ

منذ عام ١٩٦٠

العلوم

الإجابات النموذجية لاختبارات الفصل الدراسى الأول



2022 - 2021

الصف الرابع الابتدائى

4

إهداء الأستاذ/ أحمد بدير عبد العاطى

إجابة الاختبار 1

السؤال الأول:

- ✓ ① ② X ③ ✓ ④ X

السؤال الثاني:

- ① ج لوح خشبي ② ب طاقة الوضع تتحول الى طاقة حركة ③ أ التنفسي ④ ب الباردة

السؤال الثالث:

- ① الفم - الأمعاء الدقيقة ② الكيميائية ③ متساوية ④ الشم

السؤال الرابع:

- ① 1 - مع ب ② 2 - مع أ ③ 1 - مع ج ④ 2 - مع ب

السؤال الخامس:

- ① عند حدوث التصادم يتسبب الجسم الأكبر كتلة في حدوث ضرر كبير للجسم الأقل كتلة.
② الخنافس المضيئة تتواصل عن طريق الإشارات الضوئية (أى مثال صحيح مقبول).
③ السرعة = $\frac{\text{المسافة}}{\text{الزمن}} = \frac{160}{2} = 80 \text{ كم/ساعة}$
④ أ طاقة حركة ب طاقة وضع

إجابة الاختبار 2

السؤال الأول:

- ✓ ① ② X ③ ✓ ④ ✓

السؤال الثاني:

- ① أ انعكاس ② د الجاذبية ③ د اللعب ④ ج اللهث مثل الكلاب

السؤال الثالث:

- ① اصطياد غذائه ② المخ ③ زمن الاستجابة ④ الفرامل

السؤال الرابع:

- ① 1 - مع ب ② 2 - مع أ ③ 1 - مع ب ④ 2 - مع أ

السؤال الخامس:

- ① 1 - نوع التكيف: سلوكي 2 - سبب التكيف: تحذير الأشجار الأخرى وإبعاد الحيوانات عن أكل أوراقها
② العداء الأول: لأنه قطع مسافة أكبر في نفس الزمن.
③ مرآة لأنه انعكس في اتجاه واحد.
④ الخفاش - يستخدم حاسة السمع لتحديد أماكن فرائسه عن طريق تحديد الموقع بالصدى.



إجابة الاختبار 3

السؤال الأول:

- ✓ ① ✗ ② ✓ ③ ✓ ④

السؤال الثاني:

- ① ب الومضات ② د ركل الكرة ③ أ الأعشاب ④ ب المعدة

السؤال الثالث:

- ① أشواك ② شكل الأقدام - الاختباء فى الجحور ③ كم/ساعة ④ طاقة

السؤال الرابع:

- ① 1 - مع ب 2 - مع أ ② 1 - مع ج 2 - مع ب

السؤال الخامس:

- ① الترتيب: ب ، ج ، أ
② الاختلاف: الأنف فى الإنسان، والخياشيم فى الأسماك
التشابه: الأكسجين فى الإنسان، والأكسجين فى الأسماك
③ السرعة = $\frac{\text{المسافة}}{\text{الزمن}} = \frac{80}{2} = 40$ كم/ساعة
④ تحول الطاقة الكيميائية إلى طاقة حركية

إجابة الاختبار 4

السؤال الأول:

- ✓ ① ✓ ② ✓ ③ ✓ ④

السؤال الثاني:

- ① ب الزجاج الشفاف ② ب رؤيتها ③ ب عصفورًا يقف على الشجرة ④ أ شاحنة

السؤال الثالث:

- ① الدفع ② الحركة - الوضع ③ أشواك ④ صحراوية

السؤال الرابع:

- ① 1 - مع ج 2 - مع أ ② 1 - مع ج 2 - مع ب

السؤال الخامس:

- ① أ سلوكيًا ب تركيبًا
② الأول: أسنان مدببة الثانى: أسنان مستوية
③ السباح الثانى: هو الأسرع؛ لأنه قطع مسافة أكبر من السباح الأول فى نفس الوقت.



إجابة الاختبار 5

السؤال الأول:

- 1 ✓ 2 ✓ 3 X 4 X

السؤال الثاني:

- 1 ج متساوية في المقدار، ومتضادة في الاتجاه
2 د المرآة
3 ج تزداد
4 أ كثافة الفراء

السؤال الثالث:

- 1 سلوكيًا
2 الأمعاء الدقيقة
3 60 كم / ساعة
4 البساط الشفاف

السؤال الرابع:

- 1 1- مع ج 2- مع أ 3- مع ب 4- مع ج

السؤال الخامس:

- 1 شمعة - مصباح زيتي (أى مصدر ضوء لا يستخدم الكهرباء أو البطاريات مقبول).
2 1- أربع حجرات 2- طويلة 3- العشب 4- حجرة واحدة 5- قصيرة 6- اللحوم
3 أ طاقة الوضع: أ
ب طاقة الحركة: ب ، ج
ب عند تقليل سرعة السيارة



إهداء الأستاذ / أحمد بدير عبد العاطي

سلاح التنظيم

منذ عام ١٩٦٠

الدراسات الاجتماعية

اختبارات على الفصل الدراسي الأول



2022 - 2021

الصف الرابع الابتدائي

4

الاختبار ١

السؤال الأول أكمل العبارات التالية بما يناسبها من كلمات:

- ١ لُقِبَ محمد طلعت حرب باشا بـ
- ٢ أكدت المادة (٨٠) من الدستور على الأطفال.
- ٣ تُعد محافظتك جزءًا من البيئة
- ٤ سُميت الصحراء السوداء بهذا الاسم لأن سطحها يغطيه بقايا

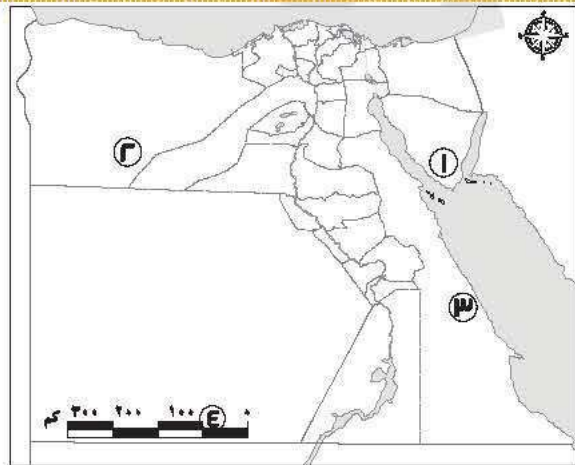
السؤال الثاني اكتب كلمة (صواب) أمام العبارة الصحيحة، وكلمة (خطأ) أمام العبارة غير الصحيحة:

- ١ الصورتان الجوية والفضائية مختلفتان. ()
- ٢ يختلف مناخ مصر عن مالوي. ()
- ٣ جميع الموارد الطبيعية متجددة. ()
- ٤ يزيد الادخار كلما زاد معدل الاستهلاك. ()

السؤال الثالث اختر الإجابة الصحيحة مما بين القوسين:

- ١ يعد المحيط الهادي جزءًا من
(الماء - التلال - الجبال - الهضاب)
- ٢ يدل النسر الذهبي في علم مصر على
(دماء الشهداء - ظلم الاستعمار - القوة - التضحية)
- ٣ توجد السهول الفيضية في البيئة
(الساحلية - الزراعية - الصحراوية - الصناعية)
- ٤ تسعى الدولة المصرية لحماية البيئة فأطلقت مبادرة
(نور الحياة - حياة كريمة - اتحضر للأخضر - قادرون باختلاف)

السؤال الرابع أمامك خريطة صماء لمصر، اكتب مدلول الأرقام عليها:



محافظات مصر

- ١ جبل
- ٢ البيئة
- ٣ مكان يُستخرج منه معدن
- ٤ أحد عناصر الخريطة



السؤال الخامس أجب عما يلي:

١) وضح كيف يمكنك ترشيد استهلاك المياه.

٢) ما النتائج المترتبة على حفر قناة السويس الجديدة؟ (يكتفى باثنتين)

٣) فسر سبب تنوع سطح مصر.

٤) صنف الأماكن التالية حسب نوع الخدمة.

(هيئة المصل واللقاح - المتحف المصري - قسم الشرطة)

خدمة أمنية	خدمة صحية	خدمة ترفيهية وثقافية



الاختبار ٢

السؤال الأول أكمل العبارات التالية بما يناسبها من كلمات:

- ١ نحدد الاتجاه الصحيح على الخريطة باستخدام
- ٢ التعبير عن وجهات النظر الشخصية والتي قد تكون صحيحة أو خطأ يسمى
- ٣ أنشأت الدولة مدينة لصناعة الجلود في
- ٤ تنتشر مناجم الحديد في الصحراء

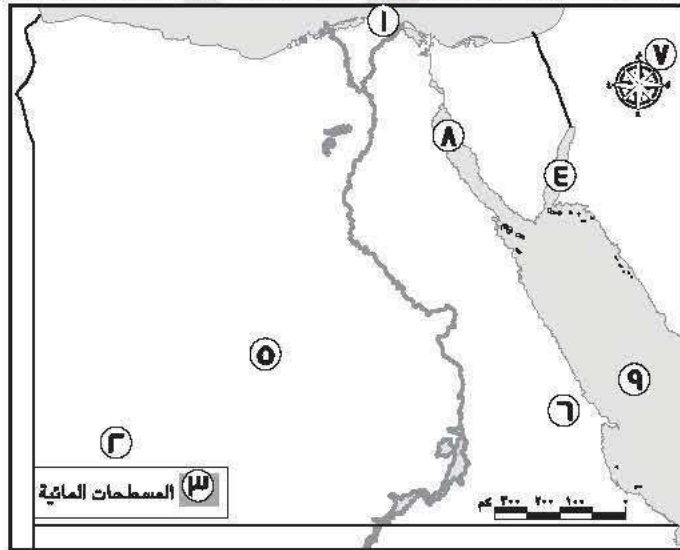
السؤال الثاني اكتب كلمة (صواب) أمام العبارة الصحيحة، وكلمة (خطأ) أمام العبارة غير الصحيحة:

- ١ ظهرت مهنة مُشغل المحولات الهاتفية مع ظهور الهواتف الذكية. ()
- ٢ أقر طه حسين حق التعليم المجاني لكل المصريين. ()
- ٣ يلون منخفض القطارة على الخريطة باللون البنّي الفاتح. ()
- ٤ تساهم العاصمة الإدارية في تخفيف الضغط عن محافظة القاهرة. ()

السؤال الثالث اختر الإجابة الصحيحة مما بين القوسين:

- ١ إحدى قارات العالم الجديد وتقع جنوب آسيا
(أوروبا - أمريكا الشمالية - أمريكا الجنوبية - أستراليا)
- ٢ يقع بحر الرمال في البيئة
(الساحلية - الزراعية - الصحراوية - الصناعية)
- ٣ أحد مصادر الطاقة التي تنفذ باستخدامنا لها
(الرياح - الشمس - البترول - الأمواج)
- ٤ البنك المسئول عن إصدار النقود الورقية هو
(بنك مصر - بنك القاهرة - البنك المركزي المصري - البنك العربي الإفريقي)

السؤال الرابع لاحظ الخريطة التالية واختر الرقم الدال على كل جملة:



جمهورية مصر العربية

- ١ أصغر محافظات مصر مساحة رقم (.....)
- ٢ هضبة الجلف الكبير رقم (.....)
- ٣ خليج السويس رقم (.....)
- ٤ الصحراء الغربية رقم (.....)



السؤال الخامس أجب عما يلي:

(يكتفى باثنين)

١ كيف يمكنك تقييم المعلومات التي تجدها في كتاب ما ؟

٢ حدد اثنين من الأنشطة الاقتصادية التي تتأثر بحالة الطقس.

٣ فسر سبب ظهور السحابة السوداء.

٤ وضح كيف تهتم الدولة بالحرف التراثية.

دارس انجليزي



الاختبار ٣

السؤال الأول أكمل العبارات التالية بما يناسبها من كلمات:

- ١ تدخل الرمال البيضاء في صناعة الزجاج و
- ٢ يُلون جبل "كليمنجارو" على خريطة التضاريس باللون
- ٣ أنشأ بنك مصر عام ١٩٢٠ م.
- ٤ يريد أحد السياح التمتع بالشعاب المرجانية في مصر، إذن فعليه زيارة سواحل

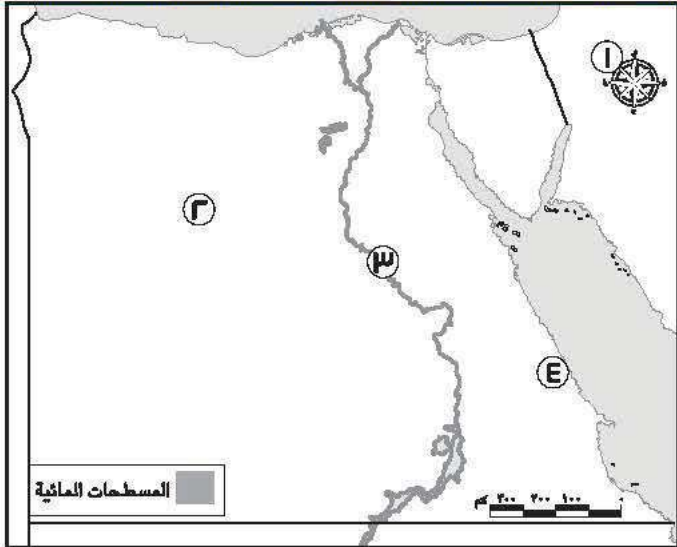
السؤال الثاني اكتب كلمة (صواب) أمام العبارة الصحيحة، وكلمة (خطأ) أمام العبارة غير الصحيحة:

- ١ يجب أن أحافظ على نظافة البيئة التي أعيش فيها. ()
- ٢ تُعد لوحة نارمر أحد المصادر الثانوية التي يمكن الاعتماد عليها. ()
- ٣ أوروبا هي مساحة واسعة من اليابس تضم عددًا من الدول بداخلها. ()
- ٤ طه حسين هو أحد الشخصيات الشهيرة التي تكلمت عن أهمية موقع مصر الجغرافي. ()

السؤال الثالث اختر الإجابة الصحيحة مما بين القوسين:

- ١ البنك المسئول عن إصدار النقود في مصر هو
(البنك المركزي المصري - بنك مصر - بنك القاهرة - البنك التجاري الدولي)
- ٢ أحد المنتجات التي نحصل عليها من مدينة الروبيكي هي
(حذاء جلدي - قُلة فخار - سجادة يدوية - سلة خوص)
- ٣ من مصادر الطاقة التي لا تنفذ بكثرة استخدامنا لها
(البترول - الفحم - الشمس - الغاز الطبيعي)
- ٤ يمكنك معرفة اتجاه الرياح في محافظتك باستخدام
(الترمومتر - دارة الرياح - الأنيموميتر - مقياس المطر)

السؤال الرابع لاحظ الخريطة التالية، ثم أجب:



جمهورية مصر العربية

- ١ أحد عناصر الخريطة
- ٢ معدن ينتشر في الصحراء الغربية
- ٣ مجرى من الماء العذب
- ٤ البيئة



السؤال الخامس أجب عما يلي:

١ صنف الأماكن التالية حسب نوع الخدمة التي تقدمها: (جامعة القاهرة – ساقية الصاوي – قسم شرطة قصر النيل)

خدمة أمنية	خدمة تعليمية	خدمة ثقافية

٢ حدد مظهرين من مظاهر احتفال محافظتك بالعيد القومي.

.....

.....

.....

٣ وضح سبب وجود النسر وسط علم مصر.

.....

.....

.....

٤ وضح أهمية الخريطة للسائقين.

.....

.....

.....



الاختبار ٤

السؤال الأول أكمل العبارات التالية بما يناسبها من كلمات:

- ١ تقع مصر في الركن الشمالي الشرقي لقارة
- ٢ يرتبط العيد القومي لمحافظة بذكرى
- ٣ يقوم خبراء الأرصاد الجوية بقياس سرعة الرياح باستخدام جهاز
- ٤ أحد النماذج المشرفة لذوي الاحتياجات الخاصة، وأقر مجانية التعليم هو الدكتور

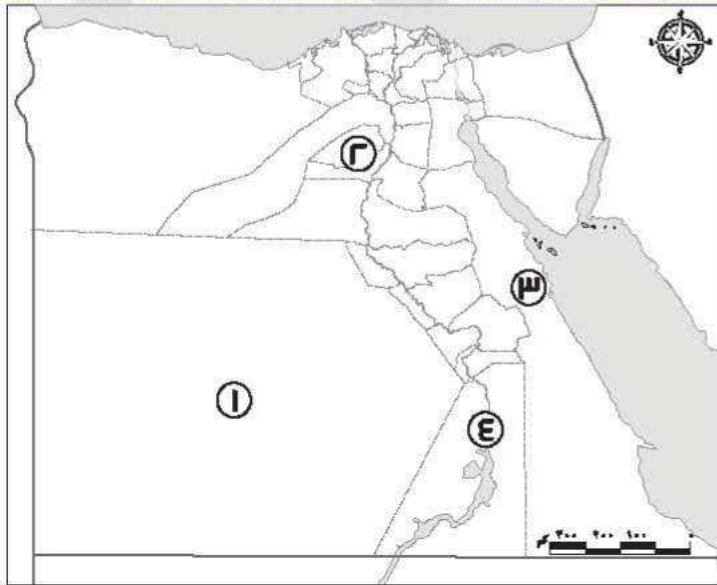
السؤال الثاني اكتب كلمة (صواب) أمام العبارة الصحيحة، وكلمة (خطأ) أمام العبارة غير الصحيحة:

- ١ تُعتبر بردية إيبريس في الطب مصدرًا أوليًا. ()
- ٢ يتوسط علم مصر نسر لونه أحمر يدل على قوة مصر وعراقة حضارتها. ()
- ٣ الاستخدام السيئ للطاقة المتجددة يعرضها للتلوث. ()
- ٤ تقل نسبة تلوث الهواء في القاهرة. ()

السؤال الثالث اختر الإجابة الصحيحة مما بين القوسين:

- ١ تقوم الزراعة على المياه الجوفية في
(وادي النيل - الصحراء الغربية - منخفض الفيوم - دلتا النيل)
- ٢ أدى التقدم الإعلامي بداية القرن العشرين إلى اختفاء وظيفة
(المنادي ناقل الأخبار - بائع الصحف والمجلات - محرر صحفي بجريدة - مسئول طباعة الجرائد)
- ٣ إحدى الحرف التراثية المنتشرة في منطقة الأزهر بالقاهرة هي
(الزجاج - السجاد اليدوي - الخيامية - الفخار)
- ٤ تُعتبر سيارة الإسعاف من الخدمات
(الأمنية - التعليمية - الثقافية - الصحية)

السؤال الرابع أمامك خريطة صماء لمصر، اكتب مدلول الأرقام عليها:



محافظات مصر

- ١ محافظة
- ٢ بيئة
- ٣ جبل
- ٤ السد



السؤال الخامس أجب عما يلي:

١ حدد اثنين من أهم أعمال محمد طلعت باشا حرب.

٢ ما هو واجبك تجاه أفراد أسرتك؟

٣ ما أوجه التشابه بين البنوك المصرية والبريد المصري؟

٤ هات دليلاً على صحة هذه العبارة: كان جمال حمدان عالماً جغرافياً محباً لوطنه.



الاختبار ٥

السؤال الأول أكمل العبارات التالية بما يناسبها من كلمات:

- ١ النشيد الوطني الرائع لبلادنا مصر هو من ألحان الفنان المبدع
- ٢ تعد محافظتك من محافظات
- ٣ يتسبب حرق قش الأرز في تلوث
- ٤ دراسة حالة الجو العام الماضي هي دراسة لحالة

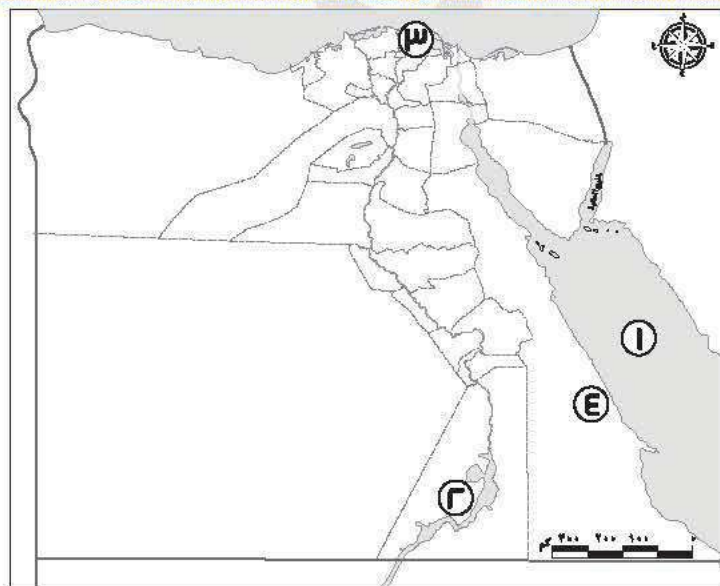
السؤال الثاني صوب ما تحته خط:

- ١ أقر طه حسين التعليم المدفوع.
- ٢ الراية التي تعبر عن محافظتي تسمى علمًا.
- ٣ تربط قناة سيزوستريس حاليًا بين البحرين الأحمر والمتوسط.
- ٤ مؤلف كتاب شخصية مصر هو طلعت حرب.

السؤال الثالث اختر الإجابة الصحيحة مما بين القوسين:

- ١ نرسم للشهداء في علم مصر باللون
- ٢ "شواطئ مرسى علم هي أجمل شواطئ مصر" تعبر العبارة السابقة عن
(الأحمر - الأبيض - الأسود - الذهبي)
- ٣ البيئة الأكبر مساحة في مصر هي البيئة
(الزراعية - الصحراوية - الصناعية - الساحلية)
- ٤ تتعدد الجهود الدولية لحماية الأطفال ومنها
(مبادرة ١٠٠ مليون صحة - قانون الطفل المصري - اتفاقية حقوق الطفل - مبادرة حياة كريمة)

السؤال الرابع أمامك خريطة صماء لمصر، لاحظها ثم أجب:



محافظات مصر

- ١ يشير رقم (.....) لمنطقة لاستخراج الذهب.
- ٢ يشير رقم (.....) لقرية جراح بمحافظة الدقهلية.
- ٣ يشير رقم (.....) للبحر الأحمر.
- ٤ يشير رقم (.....) لأكبر البحيرات الصناعية في العالم.



السؤال الخامس أجب عما يلي:

١ لماذا تعد الخريطة مهمة لبعض الطيارين؟

٢ بم تفسر : أهمية البنك المركزي المصري؟

٣ ما العلاقة بين التكنولوجيا وتطور الوظائف في المستقبل؟

٤ ما الفرق بين الجزيرة والبحيرة؟

البحيرة	الجزيرة



نماذج الاختبارات



إهداء الأستاذ/ أحمد بدير عبد العاطي

سلاح التنميط

منذ عام ١٩٦٠

الدراسات الاجتماعية

الإجابات النموذجية على اختبارات الفصل الدراسي الأول



2022 - 2021

الصف الرابع الابتدائي

4

إهداء الأستاذ/ أحمد بدير عبد العاطي

إجابة الاختبار ١

السؤال الأول:

- ١ أبي الاقتصاد المصري.
- ٢ حقوق.
- ٣ تُترك للتلميذ حسب محافظته.
- ٤ الحمم البركانية.

السؤال الثاني:

- ١ صواب.
- ٢ صواب.
- ٣ خطأ.
- ٤ خطأ.

السؤال الثالث:

- ١ الماء.
- ٢ القوة.
- ٣ الزراعية.
- ٤ اتحضر للأخضر.

السؤال الرابع:

- ١ سانت كاترين.
- ٢ الصحراوية.
- ٣ الذهب.
- ٤ مقياس الرسم.

السؤال الخامس:

- ١ اجابة استرشادية: يمكنني غلق صنوبر المياه أثناء تنظيف أسناني.
- ٢ اجابة استرشادية:
 - تقليل زمن مرور السفن.
 - السماح بمرور السفن في الاتجاهين.
- ٣ لأنه يتنوع بين المناطق المرتفعة والمناطق السهلية والمناطق المنخفضة.
- ٤

خدمة أمنية	خدمة صحية	خدمة ترفيهية وثقافية
قسم الشرطة	هيئة المصل واللقاح	المتحف المصري



إجابة الاختبار ٢

السؤال الأول:

- ١ ورده البوصلة.
٢ رأي.
٣ الروبيكي بمدينة بدر.
٤ الغربية.

السؤال الثاني:

- ١ خطأ.
٢ صواب.
٣ خطأ.
٤ صواب.

السؤال الثالث:

- ١ أستراليا.
٢ الصحراوية.
٣ البترول.
٤ البنك المركزي المصري.

السؤال الرابع:

- ١ (١)
٢ (٢)
٣ (٨)
٤ (٥)

السؤال الخامس:

- ١ - إجابة استرشادية: عن طريق:
- معرفة اسم المؤلف وتخصصه ومكانته العلمية.
- التأكد من مشاركة وقت حدوث الحدث.
٢ إجابة استرشادية: الزراعة - النقل.
٣ بسبب حرق قش الأرز.
٤ تقوم الدولة برعاية مصالح العمال.
- إجابة استرشادية: تسويق المنتجات عن طريق المعارض والمهرجانات.
- إعداد البرامج التدريبية.
- إنشاء مدن مخصصة لبعض الصناعات.



إجابة الاختبار ٣

السؤال الأول:

- ١ الخلايا الشمسية.
٣ طلعت حرب.

- ٢ البُني.
٤ البحر الأحمر.

السؤال الثاني:

- ١ صواب.
٣ صواب.

- ٢ خطأ.
٤ خطأ.

السؤال الثالث:

- ١ البنك المركزي المصري.
٣ الشمس.

- ٢ حذاء جلدي.
٤ دوارة الرياح.

السؤال الرابع:

- ١ وردة البوصلة.
٣ نهر النيل.

- ٢ الحديد.
٤ الساحلية.

السؤال الخامس:

١

خدمة أمنية	خدمة تعليمية	خدمة ثقافية
قسم شرطة قصر النيل	جامعة القاهرة	ساقية الصاوي

- ٢ إجابة استرشادية: تزيين الشوارع - رفع علم مصر وشعار المحافظة.
٣ لأن النسر يرمز إلى قوة مصر وعراقة حضارتها.
٤ يستخدمها السائحون للوصول إلى الأماكن الأثرية والسياحية.



إجابات نماذج الاختبارات



إهداء الأستاذ / أحمد بدير عبد العاطي

الصف الرابع الابتدائي - الفصل الدراسي الأول

إجابة الاختبار ٤

السؤال الأول:

- ١ إفريقيا.
- ٢ يجيب عنها التلميذ بحسب محافظته.
- ٣ الأنيمومتر.
- ٤ طه حسين.

السؤال الثاني:

- ١ صواب.
- ٢ خطأ.
- ٣ صواب.
- ٤ خطأ.

السؤال الثالث:

- ١ الصحراء الغربية.
- ٢ المنادي ناقل الأخبار.
- ٣ الخيامية.
- ٤ الصحية.

السؤال الرابع:

- ١ الوادي الجديد.
- ٢ زراعية.
- ٣ شايب البنات (الشايب).
- ٤ وردة البوصلة.

السؤال الخامس:

- ١ إجابة استرشادية: أسس بنك مصر عام ١٩٢٠ م - ألف العديد من الكتب التي ناقشت بعض قضايا مصر والعالم الإسلامي.
- ٢ إجابة استرشادية : أن أساعدهم في أعمال المنزل.
- ٣ إجابة استرشادية: كلاهما يقدم خدمات مالية وكلاهما منتشر في أنحاء الجمهورية.
- ٤ إجابة استرشادية: حيث قدم كتابه الرائع " شخصية مصر " والذي يتحدث فيه عن مميزات موقع مصر الجغرافي بشيء من التفصيل، والذي احتاج لإتمامه إلى عشر سنوات من العمل والجهد مما يدل على مثابرته من أجل تحقيق هدفه وبالتالي حبه لوطنه مصر .



إجابة الاختبار ٥

السؤال الأول:

- ١ سيد درويش.
- ٢ يجيب التلميذ بحسب محافظته بإحدى هذه الإجابات (الوجه البحري - الوجه القبلي - الحدود).
- ٣ الهواء.
- ٤ المناخ.

السؤال الثاني:

- ١ المجاني.
- ٢ شعار.
- ٣ السويس.
- ٤ جمال حمدان.

السؤال الثالث:

- ١ الأحمر.
- ٢ رأي.
- ٣ الصحراوية.
- ٤ اتفاقية حقوق الطفل.

السؤال الرابع:

- ١ (٤)
- ٢ (٣)
- ٣ (١)
- ٤ (٢)

السؤال الخامس:

- ١ إجابة استرشادية: لأنها تساعدهم في تحديد المواقع ومعرفة خط سير الطائرات.
- ٢ حيث يقوم بإصدار النقود، والإشراف على جميع البنوك المصرية، والإشراف على المؤسسات المصرفية الأخرى بما في ذلك البريد المصري.
- ٣ إجابة استرشادية: أدى التطور التكنولوجي إلى استحداث مهن جديدة مثل متخصصي الذكاء الاصطناعي وذلك بسبب الحاجة إلى استخدام الروبوت.
- ٤

البحيرة	الجزيرة
هي مساحة من المياه يحيط بها اليابس من جميع الجهات.	هي مساحة من الأرض تحيط بها المياه من جميع الجهات.



إهداء الأستاذ/ أحمد بدير عبد العاطي

سلاح التنميه

منذ عام ١٩٦٠

تكنولوجيا المعلومات والاتصالات

اختبارات على الفصل الدراسي الأول



2022 - 2021

الصف الرابع الابتدائي

4

الاختبار 1

السؤال الأول ضع علامة (✓) أمام العبارة الصحيحة، وعلامة (X) أمام العبارة الخطأ:

- 1) طريقة برايل تحول الحروف إلى رموز بارزة ويمكن قراءتها عن طريق اللمس. ()
- 2) يعتبر مركب الكلام من أجهزة الإخراج. ()
- 3) يتضمن التنمر عبر الإنترنت منشورات بذيئة أو رسائل سيئة. ()
- 4) ليس من المهم امتلاك كلمة مرور قوية لحساباتك على الإنترنت. ()

السؤال الثاني اختر الإجابة الصحيحة من بين الاختيارات التالية:

- 1) من الأجهزة التي يحتاجها برنامج معالجة النصوص للكتابة على الكمبيوتر
أ) لوحة المفاتيح ب) الطابعة ج) الشاشة د) الماوس
- 2) المواقع الإلكترونية التي تضم روابطها (.org) تتمتع بمصادقية
أ) منخفضة ب) متوسطة ج) عالية د) متدنية
- 3) تريد أن تحدد أحد الأماكن المشهورة على جهازك، فأنت بحاجة إلى
أ) جهاز المغناطيسية ب) الرادار المخترق للأرض ج) نظام تحديد المواقع العالمي (GPS) د) جهاز تحديد المواقع
- 4) من مهام برنامج مكافحة الفيروسات
أ) التسبب في بطء الجهاز ب) حماية الجهاز من الفيروسات ج) تحميل ألعاب د) تحديث البرامج

السؤال الثالث أكمل العبارات التالية بما يناسبها مما بين القوسين:

(الفيروسات - مقاطع فيديو - مختلفة - المقابلات - متشابهة)

- 1) العرض التقديمي يحتوي على
أ) عرض تقديمي ب) عرض شفهي ج) عرض مكتوب د) عرض مرئي
- 2) يجب اختيار كلمات مرور للحسابات المختلفة على الإنترنت.
أ) بسيطة ب) معقدة ج) متوسطة د) متدنية
- 3) تعمل على تدمير جهازك الشخصي.
أ) الفيروسات ب) المقاطع ج) المقابلات د) المتشابهة
- 4) يمكنك من خلال إجراء العديد من اللقاءات مع أصدقائك للحصول على المعلومات.
أ) العرض التقديمي ب) العرض شفهي ج) العرض مكتوب د) العرض مرئي

السؤال الرابع صل ما في العمود أ بما يناسبه في العمود ب:

أ	ب
1) Ahmad22years	أ) برمجيات التواصل البديلة
2) تساعد ذوى الهمم على التواصل الشفهي واللغوي مع الآخرين	ب) كلمة مرور غير قوية
3) طريقة تواصل مع الأصدقاء	ج) مقاطع الفيديو
4) من وسائل إعداد التقارير الرقمية	د) الرسائل النصية الفورية

السؤال الخامس اقرأ العبارات التالية، ثم حدد اختيارك المناسب لكل عنصر مما يلي:

- 1) ما الذي يسبب التنمر؟
أ) التواصل مع أشخاص مجهولين - استخدام الإنترنت
- 2) أي مما يلي من أجهزة الإدخال والإخراج معاً؟
أ) لوحة المفاتيح - شاشة اللمس
- 3) عندما تقوم ببحث على الإنترنت اختر المتصفحات التي: (ترسل تنبيهات عند الدخول لموقع غير آمن - تسمح بتنزيل فيروسات)
- 4) إحدى سلبات أدوات تكنولوجيا المعلومات والاتصالات: (معرفة الكثير من المعلومات - قضاء وقت كثير بدون حركة)



الاختبار 2

السؤال الأول ضع علامة (✓) أمام العبارة الصحيحة، وعلامة (X) أمام العبارة الخطأ:

- 1) آلة باسكالين هي النسخة الأولى من الآلة الحاسبة. ()
- 2) يجب الاحتفاظ بكلمات المرور الخاصة بحساباتك على الإنترنت في مكان آمن. ()
- 3) الأجهزة المسؤولة عن عرض البيانات للكمبيوتر تسمى أجهزة الإخراج. ()
- 4) المواقع الإلكترونية التي تضم روابطها (.gov) تتمتع بمصداقية عالية. ()

السؤال الثاني اختر الإجابة الصحيحة من بين الاختيارات التالية:

- 1) وسيلة للتواصل وتبادل الرسائل بين زملائك، هي
أ) المقابلات الشخصية ب) البريد الإلكتروني ج) برامج التلفزيون
- 2) لتضمن شمول بحثك، استخدم الرمز
أ) (+) ب) (-) ج) (" ") د) "
- 3) أرسل أحد الأشخاص لك رسالة عبر شبكة التواصل يريد أن يتعرف عليك، فيجب عليك أن
أ) تخبر أحد أفراد أسرته ب) تغلق الموقع ج) ترد عليه د) تريد معلومات عن مؤسسة تعليمية، أى من الروابط يكون أكثر مصداقية؟
- 4) تريد معلومات عن مؤسسة تعليمية، أى من الروابط يكون أكثر مصداقية؟
أ) .com ب) .edu ج) .net د) .gov

السؤال الثالث أكمل العبارات التالية بما يناسبها مما بين القوسين:

- (اللوحة الأم - القرصنة - طريقة برايل - ضعيفة - قوية)
- 1) نظام للكتابة يمكن المكفوفين من القراءة، من خلال كتابة الحروف على شكل رموز بارزة على الورق
2) من المهم امتلاك كلمة مرور لحساباتك على الإنترنت.
 - 3) تعتبر هي الأساس في عملية المعالجة، والمتحكم في البيانات بشكل كبير.
 - 4) اختيار كلمة مرور سهلة قد يعرضك لـ

السؤال الرابع صل ما فى العمود أ بما يناسبه فى العمود ب:

أ	ب
1) تشمل اسمك وبريدك الإلكتروني وعنوانك	أ) ضعها بين علامتي تنصيص "
2) إذا كنت تبحث عن جملة معينة على الإنترنت	ب) المعلومات الشخصية
3) تتيح التفاعل مع المعلومات واختيارها من على الشاشة	ج) يمكن الدخول عليه مجاناً
4) بنك المعرفة المصري	د) الفأرة

السؤال الخامس اقرأ العبارات التالية، ثم حدد اختيارك المناسب لكل عنصر مما يلي:

- 1) انصح صديقك الذى تعرض للتنمر عبر الإنترنت: (يجب عليك إخبار أحد والديك - لا تخبر أحداً)
- 2) انصح صديقك الذى يود عرض بيانات قام بجمعها: (استخدم برنامج معالجة الكلمات Word - استخدم الرسم البياني العمودى)
- 3) أيًا من التالي يُعتبر مقالاً موثقاً؟: (مقال ملئ بالأخطاء اللغوية - مقال على موقع يضم رابطته gov)
- 4) يعتمد السائقون فى وظيفتهم على جهاز: (الرادار المخترق - تحديد المواقع العالمى)



الاختبار 3

السؤال الأول ضع علامة (✓) أمام العبارة الصحيحة، وعلامة (X) أمام العبارة الخطأ:

- 1) يُستخدم الرادار المخترق للأرض لإيجاد الأجسام والمعادن فوق سطح الأرض. ()
- 2) إذا تعرضت للتنمر على الإنترنت، ليس عليك إخبار ولي أمرك. ()
- 3) نظام التشغيل ليس ضروريًا لفتح جهاز الكمبيوتر. ()
- 4) دخول أشخاص مجهولين على حساباتك على شبكة الإنترنت يعرف بالقرصنة. ()

السؤال الثاني اختر الإجابة الصحيحة من بين الاختيارات التالية:

- 1) تعتبر من المصادر الرقمية للمعلومات.
 - أ) الصحف اليومية
 - ب) الأقراص المدمجة
 - ج) الكتب
- 2) مهمة برنامج هو إعداد العروض التقديمية.
 - أ) معالجة النصوص Word
 - ب) العروض التقديمية PowerPoint
 - ج) مكافحة الفيروسات
- 3) أحد الأجهزة الملحقة التي تستخدمها خلال محادثات الفيديو
 - أ) الطابعة
 - ب) الماسح الضوئي
 - ج) الكاميرا
- 4) لزيارة رابط إلكتروني على شبكة الإنترنت، عليك استخدام
 - أ) المتصفح
 - ب) الماسح الضوئي
 - ج) الفأرة

السؤال الثالث أكمل العبارات التالية بما يناسبها مما بين القوسين:

(الطابعة - الرسائل المزعجة - موثوقة - الرسوم والصور - غير موثوقة)

- 1) اعتمد الأشخاص في عصر الثورة الميكانيكية على في تسجيل المعلومات.
- 2) المواقع الإلكترونية التي تضم روابطها (.gov) تكون
- 3) تتيح إخراج النصوص والصور من جهاز الكمبيوتر إلى الورق.
- 4) رسائل تدعو لإعلانات زائفة على بريدك الإلكتروني

السؤال الرابع صل ما في العمود أ بما يناسبه في العمود ب:

أ	ب
1) المواقع الإلكترونية التي تضم روابطها (org.)	أ) لضمان عدم شمول البحث على نتائج غير مرغوب فيها
2) تريد أن تساعد زميلًا لك يعاني من صعوبة في التحدث	ب) البريد الإلكتروني (E-Mail)
3) تريد أن ترسل رسالة إلكترونية إلى معلمك بنتائج أبحاث قمت بها	ج) لها مصداقية عالية
4) نستخدم الرمز (-)	د) مركب الكلام

السؤال الخامس اقرأ العبارات التالية، ثم حدد اختيارك المناسب لكل عنصر مما يلي:

- 1) من هي السلطة التي يمكن أن تتدخل لحل مشاكل التنمر؟ (وزارة التربية والتعليم - إدارة مكافحة جرائم الإنترنت)
- 2) قمت بتحميل صورة من على الإنترنت وعجزت عن إيجادها. أين تبحث؟ في مجلد: (الصور Pictures - المستندات Documents)
- 3) انصح صديقك بمصدر مجاني للحصول على المعلومات: (ويكي Wiki - بنك المعرفة المصري EKB)
- 4) الرسم البياني الأكثر شيوعًا هو: (الرسم البياني الأفقي - الرسم البياني العمودي)



الاختبار 4

السؤال الأول ضع علامة (✓) أمام العبارة الصحيحة، وعلامة (X) أمام العبارة الخطأ:

- 1) يستخدم مكبر الصوت لإخراج كلمات سمعية، وأغانٍ موسيقية. ()
- 2) ليس من المحتمل أن يسرق أحد الأشخاص هويتك عبر الإنترنت. ()
- 3) حذف أحد التطبيقات من الجهاز يساعد على حل معظم المشاكل. ()
- 4) من الضروري أن تتضمن كلمة المرور الخاصة بك اسمك ومعلوماتك الشخصية. ()

السؤال الثاني اختر الإجابة الصحيحة من بين الاختيارات التالية:

- 1) ساعدت على استكشاف كل ما هو جديد ومفيد للعلم والمجتمع.
 - أ آلة باسكالين
 - ب وسائل التكنولوجيا
 - ج آلات الطباعة
- 2) عند تلقي رسالة غير لائقة من هاتف مجهول يعتبر هذا نوعاً من
 - أ الصداقة
 - ب التواصل
 - ج التنمر
- 3) من طرق عرض المعلومات استخدام
 - أ المتصفحات
 - ب الملصقات الإعلانية Posters
 - ج البريد الإلكتروني
- 4) استخدام كلمات مرور يجعل من الصعب اختراق حساباتك.
 - أ ضعيفة
 - ب مختلفة
 - ج متشابهة

السؤال الثالث أكمل العبارات التالية بما يناسبها مما بين القوسين:

(الرسوم والصور - الأطراف الصناعية - البريد الإلكتروني - البرمجيات البديلة - الفأرة)

- 1) تستخدم لتوجيه الأشياء بالاختيار أو السحب أو الإدراج.
- 2) عالم الآثار ألبرت لين فقد ساقه واعتمد في ممارسة مهامه على
- 3) تساعد الأشخاص ذوي الهمم على التواصل الشفهي واللغوي مع الآخرين.
- 4) وسيلة تواصل بين الأشخاص تتميز بقلّة التكلفة، هي

السؤال الرابع صل ما في العمود أ بما يناسبه في العمود ب:

أ	ب
1 الفيروسات	أ هي نوع من أنواع البرامج الخطيرة التي تصيب جهاز الكمبيوتر
2 يستخدم في تحديد أماكن الأجسام تحت الأرض	ب من أجهزة الإخراج
3 يعتبر الماسح الضوئي	ج جهاز الرادار المخترق
4 تريد إبلاغ صديق بمكان المقابلة والميعاد	د الرسائل النصية

السؤال الخامس اقرأ العبارات التالية، ثم حدد اختيارك المناسب لكل عنصر مما يلي:

- 1) للحصول على المعلومات موثوقة بشكل مجاني، يمكنك الدخول على: (موقع ويكي - "بنك المعرفة المصري" (EKB))
- 2) أي مما يأتي من البرمجيات؟ (جوجل كروم Google Chrome - الفأرة)
- 3) يعتمد علماء الآثار في اكتشاف الآثار على جهاز: (الرادار المخترق - مقياس المغناطيسية)
- 4) الضغط على روابط مجهولة قد يعرضك لـ (تحميل فيروسات على جهازك - تحميل مقالات)



الاختبار 5

السؤال الأول ضع علامة (✓) أمام العبارة الصحيحة، وعلامة (X) أمام العبارة الخطأ:

- 1) يعتمد المستخدمون في البحث خلال شبكات الإنترنت على المتصفحات. ()
- 2) أحياناً، قد تتدخل (إدارة مكافحة جرائم الإنترنت) لحل مشكلات التنمر التي تواجهها عبر الإنترنت. ()
- 3) يستخدم Google Chrome لتشغيل جهاز الكمبيوتر. ()
- 4) تعتبر jAs63_As كلمة مرور قوية. ()

السؤال الثاني اختر الإجابة الصحيحة من بين الاختيارات التالية:

- 1) مرحلة عرض البيانات تلى مرحلة
 أ فحص البيانات ب جمع البيانات ج تحليل البيانات د تصنيف البيانات
- 2) الطريقة الأقدم للتواصل بين الأفراد هي
 أ التليفون ب الكاميرا ج الصور والرسومات د الرسائل النصية
- 3) من الضروري وجود على جهاز الكمبيوتر الخاص بك في كل الأحوال.
 أ برنامج مكافحة الفيروسات ب فيروسات ج رسائل مزعجة د رسائل نصية
- 4) إرسال رسالة نصية من زميلك تعتبر تنمراً.
 أ لطيفة ب سيئة ج قصيرة د طويلة

السؤال الثالث أكمل العبارات التالية بما يناسبها مما بين القوسين:

(الحجب - التنمر - البرمجيات البديلة - شاشة العرض - المدونات الرقمية)

- 1) يتيح لك منع الأشخاص غير المرغوب فيهم من الاطلاع على بياناتك الشخصية.
- 2) طريقة من طرق مشاركة المعلومات، هي
- 3) يُسبب أثراً سيئاً في الأشخاص.
- 4) تعتبر من أجهزة الإخراج.

السؤال الرابع صل ما في العمود أ بما يناسبه في العمود ب:

أ	ب
1) يقوم الكمبيوتر بمعالجة البيانات للحصول على	أ دخول أشخاص مجهولين على حساباتك على شبكة الإنترنت
2) يعتبر معالج النصوص	ب برامج مكافحة الفيروسات
3) ترسل تنبيهات للمستخدمين بالمواقع المحظورة	ج من البرمجيات
4) القرصنة	د المعلومات

السؤال الخامس اقرأ العبارات التالية، ثم حدد اختيارك المناسب لكل عنصر مما يلي:

- 1) من المصادر غير الموثوق بها: (المواقع الإلكترونية التي تضم روابطها (.gov) - المقالات التي لا يُعرف كاتبها)
- 2) أى من الآتي من أجهزة الكمبيوتر؟ (مكبر الصوت - برنامج العروض التقديمية PowerPoint)
- 3) قام زميلك بمشاركة كلمة المرور الخاص به معك، هذا تصرف: (سليم - غير سليم)
- 4) يستخدم المهندسون في أعمال البناء: (جهاز تحديد المواقع العالمي - آلة بسكالين)



سلاح التنميه

منذ عام ١٩٦٠

تكنولوجيا المعلومات والاتصالات

الإجابات النموذجية على اختبارات الفصل الدراسي الأول



2022 - 2021

الصف الرابع الابتدائي

4

إجابة الاختبار 1

السؤال الأول:

✓ 1

✓ 2

✓ 3

X 4

السؤال الثاني:

1 لوحة المفاتيح

2 عالية

3 نظام تحديد المواقع العالمي (GPS)

4 حماية الجهاز من الفيروسات

السؤال الثالث:

1 مقاطع فيديو

2 مختلفة

3 الفيروسات

4 المقابلات

السؤال الرابع:

1 مع ب

2 مع أ

3 مع د

4 مع ج

السؤال الخامس:

1 التواصل مع أشخاص مجهولين

3 ترسل تنبيهات عند الدخول لموقع غير آمن

2 شاشة اللمس

4 قضاء وقت كثير بدون حركة

إجابة الاختبار 2

السؤال الأول:

✓ 1

✓ 2

✓ 3

✓ 4

السؤال الثاني:

1 البريد الإلكتروني

2 (+)

3 تخبر أحد أفراد أسرته

4 .edu

السؤال الثالث:

1 طريقة برايل

2 قوية

3 اللوحة الأم

4 القرصنة

السؤال الرابع:

1 مع ب

2 مع أ

3 مع د

4 مع ج

السؤال الخامس:

1 يجب عليك إخبار أحد والديك

3 مقال على موقع يضم رابطته gov.

2 استخدم الرسم البياني العمودي

4 تحديد المواقع العالمي



إجابة الاختبار 3

السؤال الأول:

- 1 X 2 X 3 X 4 ✓

السؤال الثاني:

- 1 الأقراص المدمجة 2 العروض التقديمية PowerPoint 3 الكاميرا 4 المتصفح

السؤال الثالث:

- 1 الرسوم والصور 2 موثوقة 3 الطباعة 4 الرسائل المزعجة

السؤال الرابع:

- 1 مع ج 2 مع د 3 مع ب 4 مع أ

السؤال الخامس:

- 1 إدارة مكافحة جرائم الإنترنت 2 الصور Pictures 3 بنك المعرفة المصري (EKB) 4 الرسم البياني العمودي

إجابة الاختبار 4

السؤال الأول:

- 1 ✓ 2 X 3 X 4 X

السؤال الثاني:

- 1 وسائل التكنولوجيا 2 التمر 3 الملصقات الإعلانية Posters 4 مختلفة

السؤال الثالث:

- 1 الفأرة 2 الأطراف الصناعية 3 البرمجيات البديلة 4 البريد الإلكتروني

السؤال الرابع:

- 1 مع أ 2 مع ج 3 مع ب 4 مع د

السؤال الخامس:

- 1 بنك المعرفة المصري EKB 2 جوجل كروم Google Chrome 3 مقياس المغناطيسية 4 تحميل فيروسات على جهازك



إجابة الاختبار 5

السؤال الأول:

✓ 1

✓ 2

✗ 3

✓ 4

السؤال الثاني:

1 تحليل البيانات

2 الصور والرسومات

3 برنامج مكافحة الفيروسات

4 سيئة

السؤال الثالث:

1 الحجب

2 المدونات الرقمية

3 التنمر

4 شاشة العرض

السؤال الرابع:

1 مع د

2 مع ج

3 مع ب

4 مع أ

السؤال الخامس:

1 المقالات التي لا يُعرف كاتبها

2 مكبر الصوت

3 غير سليم

4 جهاز تحديد المواقع العالمي



سلاح التنميط

منذ عام ١٩٦٠

المهارات المهنية

نماذج اختبارات الفصل الدراسي الأول



2022

الصف الرابع الابتدائي

4

الاختبار ١

السؤال الأول ضع علامة (✓) أمام العبارة الصحيحة، وعلامة (X) أمام العبارة غير الصحيحة:

- ١ () لكى تكون طبيباً عليك أن تدرس إدارة الأعمال فى الجامعة
- ٢ () الشجيرات هى نباتات غير قادرة على النمو بشكل رأسى
- ٣ () الميزانية هى قائمة بالمتطلبات من طعام وشراب وملابس خلال شهر
- ٤ () صفحة حقوق النشر تحتوى على تاريخ إصدار الكتاب
- ٥ () الفسيفساء صور يتم رسمها وتلوينها بالألوان

السؤال الثانى اختر الإجابة الصحيحة من بين الاختيارات التالية:

- ١ أ تشغيل الآلات ب وصف المعالم السياحية ج رى النباتات
- ٢ أ يمكن تنفيذ إحدى الآلات الموسيقية باستخدام ب وصف المعالم السياحية ج رى النباتات
- ٣ أ المواد البيئية ب المواد الزجاجية ج المواد الكيميائية
- ٤ أ يُعد الفل من نباتات الزينة ب الأشجار ج المزهرة
- ٥ أ تُعد مشكلة المواد البلاستيكية من المشكلات التى تضر البيئة. ب تخزين ج تجميع
- ٦ أ أحد البنود الضرورية لمواجهة الظروف الطارئة هو ب التسوق ج الادخار

السؤال الثالث أكمل العبارات التالية بما يناسبها ممّا بين القوسين:

- (الحد من الاستخدام - حل المشكلة - تسلسل الأحداث - السيناريو - إضاءة شديدة - الموارد)
- ١ يجب علينا الاهتمام بكوكبنا الذى نحيا عليه عن طريق المحافظة على
 - ٢ نبات البوتس من النباتات التى لا تحتاج إلى
 - ٣ يُعتبر هو الرسالة التى يريد أن يوصلها المؤلف للجمهور.
 - ٤ تحديد الإيجابيات والسلبيات خطوة من خطوات
 - ٥ الكتابة على وجهى الورقة يُعتبر من أهم عمليات

السؤال الرابع صل ما فى العمود (أ) بما يناسبه فى العمود (ب):

أ	ب
١ الشخصيات	أ أول خطوة للنجاح وسيلة لتحقيق الأهداف
٢ السياحة	ب له دور فى ترقية الشعور والوجدان
٣ الخيامية	ج من عناصر المسرحية
٤ التخطيط	د فن تثبيت قصاصات القماش
٥ الفنان	ه توفر فرص عمل



الاختبار ٢

السؤال الأول ضع علامة (✓) أمام العبارة الصحيحة، وعلامة (X) أمام العبارة غير الصحيحة:

- ١) يمكنك الشجار مع صديقك فى المدرسة إذا كانت لديه فكرة أفضل ()
- ٢) يمكن استخدام الزجاجات البلاستيكية كأصيص لزراعة النباتات فى المنزل ()
- ٣) يتكاثر نبات البوتس عن طريق البذور ()
- ٤) السائحون لا يقابلون أية مشكلات فى رحلاتهم السياحية ()
- ٥) التسوق بذكاء هو شراء الأشياء بشكل عشوائى دون وضع قائمة بذلك ()

السؤال الثانى اختر الإجابة الصحيحة من بين الاختيارات التالية:

- ١) القدرات والمهارات اللازمة لأداء أى عمل تُعبر عن الموارد
 أ المادية ب البشرية ج الاقتصادية د نبات
- ٢) نبات من النباتات العشبية التى تُزرع فى المنزل وتُستخدم فى الطعام.
 أ الفوجير ب النعناع ج البوتس د يُعتبر
- ٣) يُعتبر للعمل وسيلة لتحقيق النجاح.
 أ إعادة ب تحويل ج التخطيط د هو الجزء الأكبر فى الكتاب.
- ٤)
 أ الغلاف الداخلى ب المحتوى ج الغلاف الخارجى د يمتلك
- ٥) مهارات الفهم الدقيق لأنظمة المواسير.
 أ السباك ب عامل الكهرباء ج النجار د يعد

السؤال الثالث أكمل العبارات التالية بما يناسبها ممّا بين القوسين:

- البلاستيكية - الفن - الحالة الصحية - الاحترام - الترمومتر - الأصدقاء
- ١) يُعد من الأدوات التى يستخدمها الطبيب
 - ٢) تتغير الأدوار والمسئوليات فى الأسرة حسب
 - ٣) إهدار المواد من المشكلات البيئية.
 - ٤) يُعد التفكير الإبداعى هو صانع
 - ٥) قول (من فضلك) تدل على بين أفراد الأسرة.

السؤال الرابع صل ما فى العمود (أ) بما يناسبه فى العمود (ب):

أ	ب
١) يمكن استخدام الأوشحة القديمة فى	أ أمين المكتبة
٢) يستكمل بها ملامح الشخصيات	ب الكتب
٣) عليه معرفة جميع أنواع الكتب	ج لف الهدايا
٤) أدوات يتم استخدامها فى الزراعة المنزلية	د الإكسسوارات
٥) مصادر معرفة مطبوعة	هـ مقص العقلة، الجاروف



الاختبار ٣

السؤال الأول ضع علامة (✓) أمام العبارة الصحيحة، وعلامة (X) أمام العبارة غير الصحيحة:

- ١ إطفاء الأنوار عند الخروج من الغرفة يعتبر إعادة استخدام ()
- ٢ ليس على أية مسؤوليات تجاه أسرتي لأنى أصغرهم ()
- ٣ المرشد السياحي يقوم بوصف المعالم السياحية للسائحين ()
- ٤ الأزياء هى الأشخاص الموجودة فى القصة ()
- ٥ التفكير الابتكارى تُستخدم فيه الأشياء المألوفة استخدامًا غير مألوف ()

السؤال الثانى اختر الإجابة الصحيحة من بين الاختيارات التالية:

- ١ يستخدم السباك فى عمله.
 - أ الآلات الموسيقية
 - ب قواطع المواسير
 - ج أدوات الرسم
- ٢ الخدمات التعليمية والصحية من
 - أ الموارد البشرية
 - ب الموارد الزراعية
 - ج الموارد المادية
- ٣ استخدام يساعد على حل مشكلة صدور صرير الأبواب عند غلقها.
 - أ مادة التشحيم
 - ب ورق الصنفرة
 - ج بيكربونات الصوديوم
- ٤ نبات الياسمين من نباتات الزينة
 - أ غير المزهرة
 - ب العشبية
 - ج المزهرة
- ٥ وضع قائمة بالمشتريات قبل الذهاب للمتجر هو
 - أ إعادة التدوير
 - ب التسوق الذكى
 - ج الحد من الاستخدام

السؤال الثالث أكمل العبارات التالية بما يناسبها ممّا بين القوسين:

البذرة- الشخصيات - ديوى العشري - الفسيفساء - تسلسل الأحداث - الادخار- الأقمشة

- ١ يتم تصنيف الكتب فى المكتبات وفقًا لنظام
- ٢ يمكن استخدام الزجاجات البلاستيكية فى صناعة
- ٣ نبات الريحان يتكاثر عن طريق
- ٤ تُعتبر من العناصر الأساسية فى المسرحية
- ٥ صور مصنوعة من قطع الفخار المكسور المنظمة بجوار بعضها هى

السؤال الرابع صل ما فى العمود (أ) بما يناسبه فى العمود (ب):

أ	ب
١ اختلاف اللغة	أ يجذب الانتباه تجاه شىء معين
٢ إعادة التدوير	ب يحتوى على وصف موجز لما يتناوله الكتاب
٣ البيان الإعلامى	ج يقوم ببناء المنازل والمدارس
٤ الغلاف الخلفى	د مشكلة تواجه السائحين
٥ عامل البناء	هـ إزابة الزجاجات البلاستيكية وتحويلها لمنتج آخر



الاختبار ٤

السؤال الأول ضع علامة (✓) أمام العبارة الصحيحة، وعلامة (X) أمام العبارة غير الصحيحة:

- ١) المقالات والصحف اليومية من مصادر المعرفة الرقمية ()
- ٢) للأطفال حقوق، منها ممارسة الألعاب والأنشطة ()
- ٣) بنود الميزانية متعددة ()
- ٤) بُعد المنزل عن مكان المدرسة مشكلة تواجه السائقين ()
- ٥) يُعتبر المنزل من الموارد البشرية ()

السؤال الثاني اختر الإجابة الصحيحة من بين الاختيارات التالية:

- ١) مهنة من المهن الصناعية في المجتمع
 - أ) عمال الكهرباء
 - ب) الفنانون
 - ج) المعلمون
- ٢) النباتات تقوم بتنقية الهواء من خلال عملية
 - أ) الري بالتنقيط
 - ب) البناء الضوئي
 - ج) التكاثر الخضري
- ٣) يعتبر أحد العناصر الواجب وجودها في المشهد المسرحي
 - أ) الألوان
 - ب) الرسم
 - ج) الديكور
- ٤) يمكن الاهتمام بكوكب الأرض عن طريق على الموارد
 - أ) المحافظة
 - ب) إهدار
 - ج) إهمال
- ٥) يقوم موظف الاستقبال بالعديد من المهام منها
 - أ) وصف الأماكن السياحية
 - ب) الترحيب بالزوار والعملاء
 - ج) بناء الفناق

السؤال الثالث أكمل العبارات التالية بما يناسبها مما بين القوسين:

- ورق الصنفرة - ذروة الأحداث - إعادة استخدام - صديقة البيئة - إعادة التدوير - الأطباء
- ١) وضع المشتريات في كيس من القماش يعتبر
 - ٢) لجعل الجدار أملساً يجب استخدام قبل الطلاء
 - ٣) مواد هي المواد التي يمكن تحويلها لمنتجات جديدة
 - ٤) مهمة هي علاج المرضى والاهتمام بصحتهم
 - ٥) الجزء الأكثر إثارة في المسرحية وفيه يتغير مسار الأحداث هو

السؤال الرابع صل ما في العمود (أ) بما يناسبه في العمود (ب):

أ	ب
١) يضاف السماد للنبات عن طرق	أ) الغلاف الخارجي
٢) يقيس ويقطع الأخشاب	ب) الأسرة النووية
٣) يحتوى على عنوان الكتاب واسم الكاتب	ج) مياه الري
٤) تتكون من الأب والأم والأبناء	د) أنا آسف
٥) عندما تقع في خطأ تقول	هـ) النجار



الاختبار ٥

السؤال الأول ضع علامة (✓) أمام العبارة الصحيحة، وعلامة (X) أمام العبارة غير الصحيحة:

- ١) تُعتبر السيارة من الموارد المادية ()
- ٢) الاستهلاك الواعي هو إدراك أن شراء الأشياء لا يؤثر في البيئة ()
- ٣) المفكات بأنواعها من أدوات عامل الكهرباء ()
- ٤) للحفاظ على كوكب الأرض يجب التخلص من الأشياء بشكل منظم ()
- ٥) الحب والاهتمام بين أفراد الأسرة يُعبر عن التعاون والاحترام بينهم ()

السؤال الثاني اختر الإجابة الصحيحة من بين الاختيارات التالية:

- ١) توفر والإلكترونية المعلومات للتلاميذ.
 - أ) المستشفيات العامة
 - ب) المؤسسات العامة
 - ج) المكتبات العامة
- ٢) نباتات عصارية مُعمّرة تتحمل ظروف الجو القاسية هي
 - أ) الصباريات
 - ب) الأشجار
 - ج) المتسلقات
- ٣) أحد البنود المهمة لمواجهة الظروف الطارئة هي
 - أ) الأزياء
 - ب) الادخار
 - ج) التسوق
- ٤) المرشد السياحي من المهن المهمة في مجال
 - أ) الصناعة
 - ب) الزراعة
 - ج) السياحة
- ٥) يستخدم فن في تزيين جدران الخيام.
 - أ) النحت
 - ب) الخيامية
 - ج) التصوير

السؤال الثالث أكمل العبارات التالية بما يناسبها مما بين القوسين:

- المشهد المسرحي - إعادة التدوير - ضوء - الخضري - إعادة الاستخدام - قصاصات الورق
- ١) يتم التكاثر باستخدام جزء من النبات.
 - ٢) نبات الفل لا يحتاج إلى مباشر.
 - ٣) إذابة وعاء زجاجي وتحويله إلى مزهرية نوع من
 - ٤) يُعتبر مسرحية قصيرة يقوم فيها الممثلون بأداء أدوار وفقاً لنص مكتوب.
 - ٥) الفسيفساء صورة مصنوعة من قطع صغيرة من مواد مختلفة مثل

السؤال الرابع صل ما في العمود (أ) بما يناسبه في العمود (ب):

أ	ب
١) نباتات تتميز برائحتها الجميلة وتستخدم في الطعام	أ) بنك المعرفة المصري
٢) الكتابة على وجهى الورقة يُعتبر	ب) الحبكة
٣) مكتبة رقمية مصرية أنشأتها الحكومة	ج) النباتات العشبية
٤) لديه خبرة في تشغيل الآلات الزراعية	د) حدًا من الاستخدام
٥) الأحداث التي تشكل قصة المسرحية	هـ) المزارع





إهداء الأستاذ/ أحمد بدير عبد العاطي



صلاح التليد

منذ عام ١٩٦٠

المهارات المهنية

إجابات نماذج اختبارات الفصل الدراسي الأول



2022

الصف الرابع الابتدائي

4



إهداء الأستاذ/ أحمد بدير عبد العاطي



إجابة الاختبار ١

السؤال الأول:

- ١ X
٢ X
٣ ✓
٤ ✓
٥ X

السؤال الثاني:

- ١ وصف المعالم السياحية
٢ المواد البيئية
٣ المزهرة
٤ إهدار
٥ الادخار

السؤال الثالث:

- ١ الموارد
٢ إضاءة شديدة
٣ السيناريو
٤ حل المشكلة
٥ الحد من الاستخدام

السؤال الرابع:

- ١ مع ج
٢ مع هـ
٣ مع د
٤ مع أ
٥ مع ب

إجابة الاختبار ٢

السؤال الأول:

- ١ X
٢ ✓
٣ X
٤ X
٥ X

السؤال الثاني:

- ١ البشرية
٢ النعناع
٣ التخطيط
٤ المحتوى
٥ السباك

السؤال الثالث:

- ١ الترمومتر
٢ الحالة الصحية
٣ البلاستيكية
٤ الفن
٥ الاحترام

السؤال الرابع:

- ١ مع ج
٢ مع د
٣ مع أ
٤ مع هـ
٥ مع ب



إجابة الاختبار ٣

السؤال الأول:

١ X

٤ X

السؤال الثاني:

١ قواطع المواسير

٤ المزهرة

السؤال الثالث:

١ دوى العشري

٤ الشخصيات

السؤال الرابع:

١ مع د

٤ مع ب

السؤال الأول:

١ X

٤ X

السؤال الثاني:

١ عمال الكهرباء

٤ المحافظة

السؤال الثالث:

١ إعادة استخدام

٤ الأطباء

السؤال الرابع:

١ مع ج

٤ مع ب



٣ ✓

٢ X

٥ ✓

٣ مادة التشحيم

٢ الموارد المادية

٥ التسوق الذكي

٣ البذرة

٢ الأقمشة

٥ الفسيفساء

٣ مع أ

٢ مع هـ

٥ مع ج

إجابة الاختبار ٤

٣ ✓

٢ ✓

٥ X

٣ الديكور

٢ البناء الضوئي

٥ الترحيب بالزوار والعملاء

٣ صديقة البيئة

٢ ورق الصنفرة

٥ ذروة الأحداث

٣ مع أ

٢ مع هـ

٥ مع د

إجابة الاختبار ٥

السؤال الأول:

✓ ٣

✗ ٢

✓ ١

✓ ٥

✓ ٤

السؤال الثاني:

٣ الادخار

٢ الصبارات

١ المكتبات العامة

٥ الخيامية

٤ السياحة

السؤال الثالث:

٣ إعادة التدوير

٢ ضوء

١ الخضرى

٥ قصاصات الورق

٤ المشهد المسرحى

السؤال الرابع:

٣ مع أ

٢ مع د

١ مع ج

٥ مع ب

٤ مع هـ



إهداء الأستاذ/ أحمد بدير عبد العاطي

سلاح التلميذ

منذ عام ١٩٦٠

التربية الدينية الإسلامية

نماذج اختبارات نهاية الفصل الدراسي الأول



2021 - 2022

الصف الرابع الابتدائي

4

نماذج اختبارات نهاية الفصل الدراسي الأول - الصف الرابع الابتدائي (التربية الدينية الإسلامية) (٢٠٢١ - ٢٠٢٢ م)

نموذج ١

أ) ضع علامة (✓) أمام العبارة الصحيحة، وعلامة (X) أمام العبارة غير الصحيحة:

- ١) خَلَقَ اللهُ ﷻ الملائكة من نار. ()
- ٢) الإيمان بالكتب السماوية واجب على كل مسلم ومسلمة. ()
- ٣) كان الرسول ﷺ يتعبد في غار حراء. ()
- ٤) وُلِدَ سيدنا محمد ﷺ في المدينة المنورة. ()
- ٥) من سُنَنِ الوضوء مسح الرأس. ()

ب) اختر الإجابة الصحيحة مما يأتي:

- ١) المتأمل للكون يؤمن بأن صانع هذا الكون.
 أ) الله ب) الطبيعة ج) الإنسان
- ٢) ذهبت السيدة خديجة رَضِيَ اللهُ عَنْهَا مع الرسول ﷺ إلى ؛ لتستشيريه في نزول الوحي.
 أ) عمر بن الخطاب ب) علي بن أبي طالب ج) ورقة بن نوفل
- ٣) الماء الذي اختلط به بَوْلٌ؛ فتغيرت رائحته، هو ماء
 أ) طاهر ب) نجس ج) طهور
- ٤) أقول في أثناء الركوع:
 أ) سبحان ربي العظيم ب) سبحان ربي الأعلى ج) رب اغفر لي

ج) صل من العمود الأول بما يناسبه في العمود الثاني:

- | | |
|---|-------------------------------|
| ١) نظم الله ﷻ حركة الشمس والقمر | أ) التخطيط الجيد |
| ٢) يُعَدُّ اختيار الرسول ﷺ لدار الأرقم دليلاً على | ب) طهور يصح التطهر به |
| ٣) ماء الأمطار | ج) لذلك لا يتصادمان |
| ٤) يشفع النبي ﷺ | د) لمن يردد الأذان خلف المؤذن |

د) أجب عن السؤالين الآتيين:

١) ماذا نتعلم من قصة أصحاب الكهف؟

٢) الله ﷻ كَرَّمَ الإنسان وميَّزه، ما الدليل على ذلك من قصة خلق سيدنا آدم ﷺ؟



نموذج ٢

أ) ضع علامة (✓) أمام العبارة الصحيحة، وعلامة (X) أمام العبارة غير الصحيحة:

- ١) تختلف طبائع البشر وتختلف ألوانهم. ()
- ٢) نزلت سورة "النبا" في مكة. ()
- ٣) شارك الرسول ﷺ في رفع الحجر الأسود. ()
- ٤) أسلم الأرقم بن أبي الأرقم على يد عمر بن الخطاب رضى الله عنه. ()
- ٥) أذان الفجر يشبه أذان الصلوات الأخرى تمامًا. ()

ب) اختر الإجابة الصحيحة مما يأتي:

- ١) حَفِظَ الله ﷻ القرآن الكريم من
 أ) التحريف ب) الفهم ج) العلم
- ٢) استمر اجتماع الرسول ﷺ بأصحابه سرًّا في دار الأرقم سنوات.
 أ) ثلاث ب) أربع ج) خمس
- ٣) من شروط الوضوء
 أ) زوال العقل ب) النوم العميق ج) طهارة الماء
- ٤) يقول المؤذن: «الصلاة خيرٌ من النوم» عندما يؤذن لصلاة
 أ) العيد ب) الجمعة ج) الفجر

ج) صل من العمود الأول بما يناسبه في العمود الثاني:

- | | |
|---|-------------------------|
| ١) خَلَقَ الذبابة يدل على | أ) الأماكن تحت ظل الشجر |
| ٢) يخاطب الله ﷻ بقوله: «يا أيها المدثر» | ب) قدرة الله |
| ٣) يجب تجنب أماكن محددة عند قضاء الحاجة، مثل: | ج) التقوى |
| ٤) الصوم يعلم المسلم | د) سيدنا محمدًا ﷺ |

د) أجب عن السؤالين الآتيين:

١) أنعم الله ﷻ على قوم عاد بنعم كثيرة، لكنهم كفروا بنبيهم، كيف عاقبهم الله ﷻ على كفرهم؟

٢) ماذا يستفيد الإنسان الذي يتأمل قدرة الله ﷻ في خلق الكون؟



نموذج ٣

أ) ضع علامة (✓) أمام العبارة الصحيحة، وعلامة (X) أمام العبارة غير الصحيحة:

- ١) العقل نعمة نَمِيَّزُ بها الحق من الباطل. ()
- ٢) حكم اللام في كلمة (البلد) الإظهار. ()
- ٣) قوم عاد كانوا يسكنون مكة. ()
- ٤) يَقُصُّ الله ﷻ علينا قَصَصَ الأنبياء مع أقوامهم؛ لنتفكر ونعتبر بها. ()
- ٥) الصوم ركن من أركان الإسلام. ()

ب) اختر الإجابة الصحيحة مما يأتي:

- ١) خلق الله ﷻ آدم ﷺ من قَبْضَةٍ قَبْضُهَا من
 أ) السماء ب) الأرض ج) الجنة
- ٢) كان النبي محمد ﷺ يلتقي بأصحابه في دار
 أ) علي بن أبي طالب ب) الأرقم بن أبي الأرقم ج) عبد الرحمن بن عوف
- ٣) الطهارة هي إزالة من الجسم والثياب والمكان.
 أ) العطور ب) التراب ج) النجاسات
- ٤) صلاة المغرب
 أ) ركعتان ب) ثلاث ركعات ج) أربع ركعات

ج) صل من العمود الأول بما يناسبه في العمود الثاني:

- | | |
|-----------------------|--|
| أ) من أركان الإيمان | ١) الإيمان باليوم الآخر |
| ب) بماء الأمطار | ٢) خرجت حَلِيمَةُ السَّعْدِيَّةِ مع نساء بني سعد |
| ج) بحثًا عن طفل ترضعه | ٣) من أركان الصلاة |
| د) الركوع | ٤) يصح الوضوء |

د) أجب عن السؤالين الآتيين:

١) ماذا فعلت السيدة خديجة رَضِيَ اللهُ عَنْهَا عندما أخبرها النبي ﷺ برؤية جبريل ﷺ في الغار؟

٢) من نعم الله ﷻ على الإنسان العقل، فما وظيفة العقل؟



نموذج ٤

أ) ضع علامة (✓) أمام العبارة الصحيحة، وعلامة (X) أمام العبارة غير الصحيحة:

- ١) نزلت سورة "التين" على رسول الله ﷺ في المدينة المنورة. ()
- ٢) من دلائل قدرة الله ﷻ خَلَقَ السماء بلا عَمَد. ()
- ٣) نزل سيدنا جبريل ﷺ على النبي محمد ﷺ وهو في غار حراء. ()
- ٤) استمرت دعوة النبي محمد ﷺ سرًا مدة سبع سنوات. ()
- ٥) أفضل وقت للسحور بعد صلاة العشاء. ()

ب) اختر الإجابة الصحيحة مما يأتي:

- ١) الملك المسئول عن الوحي هو
 أ) ميكائيل ب) إسرافيل ج) جبريل د) الملك المسئول عن الوحي هو
 أ) موسى ب) عيسى ج) هودًا د) أنزل الله ﷻ القرآن في شهر
- ٢) أرسل الله ﷻ سيدنا
 أ) موسى ب) عيسى ج) هودًا د) أنزل الله ﷻ القرآن في شهر
- ٣) أنزل الله ﷻ القرآن في شهر
 أ) شعبان ب) رمضان ج) شوال د) من آداب الصوم الإكثار من
- ٤) من آداب الصوم الإكثار من
 أ) الكلام ب) الطاعات ج) الفجر د) صل من العمود الأول بما يناسبه في العمود الثاني:

ج) صل من العمود الأول بما يناسبه في العمود الثاني:

- | | |
|---------------------------------|-------------------------------|
| ١) حكم اللام في كلمة (الحاكمين) | أ) سبحان ربي العظيم |
| ٢) السيدة حليلة السعدية | ب) بماء اختلط بشيء فتغير لونه |
| ٣) يقول المصلي في الركوع: | ج) أرضعت النبي ﷺ |
| ٤) لا يصح الوضوء | د) الإظهار |

د) أجب عن السؤالين الآتيين:

١) كيف أنهى النبي ﷺ الخلاف بين القبائل حول رفع الحجر الأسود في مكانه؟

٢) بم أقسم الله ﷻ في سورة "التين"؟ وعلام يدل ذلك؟



نموذج 0

أ) ضع علامة (✓) أمام العبارة الصحيحة، وعلامة (X) أمام العبارة غير الصحيحة:

- ١) الله ﷻ قادر لا يعجزه شيء في الأرض ولا في السماء. ()
- ٢) حكم التنوين في كلمة (أَجْرُ) في قوله تعالى (لَهُمْ أَجْرٌ غَيْرُ مَمْنُونٍ) الإخفاء. ()
- ٣) اختار النبي محمد ﷺ بيت أبي بكر الصديق رَضِيَ اللهُ عَنْهُ؛ ليجتمع فيه سرّاً مع أصحابه في مكة. ()
- ٤) السيدة خديجة رَضِيَ اللهُ عَنْهَا كانت مصدر الطمأنينة للنبي ﷺ عند نزول الوحي. ()
- ٥) نقول النية جهراً في بداية الصلاة. ()

ب) اختر الإجابة الصحيحة مما يأتي:

- ١) أنعم الله ﷻ علينا ب..... للتمييز بين الأشكال والألوان.
 - أ) الأذنين
 - ب) العينين
 - ج) اللسان
- ٢) أنهى..... الخلاف بين القبائل في أثناء إعادة بناء الكعبة.
 - أ) النبي ﷺ
 - ب) أبو بكر الصديق
 - ج) عمر بن الخطاب
- ٣) من نواقض الوضوء.....
 - أ) تناول الطعام
 - ب) شرب الماء
 - ج) خروج البول
- ٤) الشخص الذي يتوضأ بماء البحر حكم وضوئه.....
 - أ) باطل
 - ب) صحيح
 - ج) ناقص

ج) صل من العمود الأول بما يناسبه في العمود الثاني:

- | | |
|--|-----------------------------|
| ١) المراد بـ «النبأ العظيم» في سورة النبأ | أ) آمنوا بالله ﷻ |
| ٢) أصحاب الكهف فتية | ب) البعث بعد الموت |
| ٣) يقول المُصلي في السجود: | ج) لا حول ولا قوة إلا بالله |
| ٤) عندما نسمع المؤذن يقول: حي على الصلاة نقول: | د) سبحان ربي الأعلى |

د) أجب عن السؤالين الآتيين:

١) الحجر الأسود له مكانة عند العرب والمسلمين، ما الدليل على ذلك؟

٢) كيف نشكر الله ﷻ على نعمة الحواس؟



سلاح التلميذ

منذ عام ١٩٦٠

التربية الدينية الإسلامية

إجابات نماذج اختبارات نهاية الفصل الدراسي الأول



2022 - 2021

الصف الرابع الابتدائي

4

إجابات نماذج اختبارات نهاية الفصل الدراسي الأول - الصف الرابع الابتدائي (التربية الدينية الإسلامية) (٢٠٢١ - ٢٠٢٢ م)

إجابة نموذج ١

أ) ضع علامة (✓) أمام العبارة الصحيحة، وعلامة (X) أمام العبارة غير الصحيحة:

١ (X)

٢ (✓)

٣ (✓)

٤ (X)

٥ (X)

ب) اختر الإجابة الصحيحة مما يأتي:

١ الله

٢ ورقة بن نوفل

٣ نجس

٤ سبحان ربي العظيم

ج) صل من العمود الأول بما يناسبه في العمود الثاني:

١ لذلك لا يتصادمان

٢ التخطيط الجيد

٣ طهور يصح التطهر به

٤ لمن يردد الأذان خلف المؤذن

د) أجب عن السؤالين الآتيين:

١) عدم اتباع الآخرين إن كانوا على غير حق - اللجوء إلى الله القادر والتوكل عليه لحمايتنا - الإيمان بقدرة الله على بعث الموتى يوم القيامة.

(أي إجابة تؤدي المعنى نفسه مقبولة)

٢) ميز الله الإنسان بالعلم، والدليل على ذلك أن الله علّم سيدنا آدم الأسماء كلها، وكرّمه والدليل على ذلك أنه أمر الملائكة أن تسجد له.

(أي إجابة تؤدي المعنى نفسه مقبولة)



إجابة نموذج ٢

أ) ضع علامة (✓) أمام العبارة الصحيحة، وعلامة (X) أمام العبارة غير الصحيحة:

١) (✓)

٢) (✓)

٣) (✓)

٤) (X)

٥) (X)

ب) اختر الإجابة الصحيحة مما يأتي:

١) التحريف

٢) ثلاث

٣) طهارة الماء

٤) الفجر

ج) صل من العمود الأول بما يناسبه في العمود الثاني:

١) قدرة الله

٢) سيدنا محمدًا ﷺ

٣) الأماكن تحت ظل الشجر

٤) التقوى

د) أجب عن السؤالين الآتيين:

١) دمرهم بريح شديدة.

(أي إجابة تؤدي المعنى نفسه مقبولة)

٢) يتعرف مظاهر قدرة الله في الكون - يزداد إيمانه بأن الله خالق هذا الكون - يؤمن بدقة صنع الله البديع.

(أي إجابة تؤدي المعنى نفسه مقبولة)



إجابة نموذج ٣

أ) ضع علامة (✓) أمام العبارة الصحيحة، وعلامة (X) أمام العبارة غير الصحيحة:

- ١ (✓)
- ٢ (✓)
- ٣ (X)
- ٤ (✓)
- ٥ (✓)

ب) اختر الإجابة الصحيحة مما يأتي:

- ١ الأرض
- ٢ الأرقم بن أبي الأرقم
- ٣ النجاسات
- ٤ ثلاث ركعات

ج) صل من العمود الأول بما يناسبه في العمود الثاني:

- ١ من أركان الإيمان
- ٢ بحثاً عن طفل ترضعه
- ٣ الركوع
- ٤ بماء الأمطار

د) أجب عن السؤالين الآتيين:

١) استقبلته وغطته وطمأنته، وبشرته بأن الله لن يضيعه؛ لأن النبي ﷺ رجل صالح، ثم ذهبت به إلى ابن عمها ورقة بن نوفل؛ لتستشيريه.

(أي إجابة تؤدي المعنى نفسه مقبولة)

٢) بالعقل يميز الإنسان الحق من الباطل، وبه يتفكر ويتدبر مظاهر قدرة الله في الكون؛ ليصل الإنسان إلى الإيمان بالله ﷻ.

(أي إجابة تؤدي المعنى نفسه مقبولة)



إجابة نموذج ٤

أ) ضع علامة (✓) أمام العبارة الصحيحة، وعلامة (X) أمام العبارة غير الصحيحة:

١ (X)

٢ (✓)

٣ (✓)

٤ (X)

٥ (X)

ب) اختر الإجابة الصحيحة مما يأتي:

١ جبريل

٢ هوداً

٣ رمضان

٤ الطاعات

ج) صل من العمود الأول بما يناسبه في العمود الثاني:

١ الإظهار

٢ أرضعت النبي ﷺ

٣ سبحان ربي العظيم

٤ بماء اختلط بشيء فتغير لونه

د) أجب عن السؤالين الآتيين:

١) حكم بأن تشارك كل القبائل في رفعه، فوضع الحجر الأسود في رداءه، وأمسكت كل قبيلة بطرف من الرداء.

(أي إجابة تؤدي المعنى نفسه مقبولة)

٢) أقسم الله ﷻ بالتين والزيتون وبجبل طور سيناء وبمكة، ويدل ذلك على الترابط بين الوحي الذي نزل على أنبياء

الله موسى وعيسى ومحمد صلى الله عليهم وسلم.

(أي إجابة تؤدي المعنى نفسه مقبولة)



إجابة نموذج ٥

أ) ضع علامة (✓) أمام العبارة الصحيحة، وعلامة (X) أمام العبارة غير الصحيحة:

١) (✓)

٢) (X)

٣) (X)

٤) (✓)

٥) (X)

ب) اختر الإجابة الصحيحة مما يأتي:

١) العينين

٢) النبي ﷺ

٣) خروج البول

٤) صحيح

ج) صل من العمود الأول بما يناسبه في العمود الثاني:

١) البعث بعد الموت

٢) آمنوا بالله ﷻ

٣) سبحان ربي الأعلى

٤) لا حول ولا قوة إلا بالله

د) أجب عن السؤالين الآتيين:

١) الدليل أن كل قبيلة أرادت أن تنال شرف رفعه في مكانه بعد ترميم الكعبة.

(أي إجابة تؤدي المعنى نفسه مقبولة)

٢) نحافظ عليها، ونساعد بها الآخرين، ونستخدمها في طاعة الله.

(أي إجابة تؤدي المعنى نفسه مقبولة)

