



الرياضيات

الموسم الدراسي: 2022/2021
 (لأستاذة)
 المستوى: السادس ابتدائي

الاسم الكامل:

بتاريخ:/...../.....

01

3pts

ضع وأنجز ما يلي (1 pt x 3)

$$9463 + 985,478$$

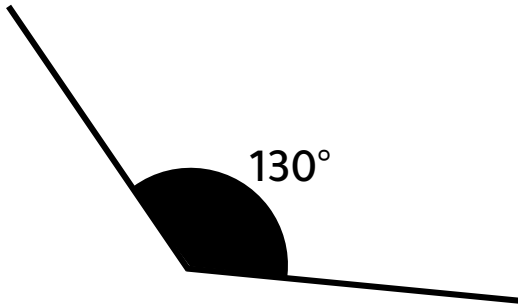
$$8\,542,1 - 529,87$$

$$98,5 \times 75,6$$

02

2pts

أنشئ منتصف الزاوية ABC (2 pts)



دون استعمال المنقلة
 حدد قياس الزاوية المحصل عليها

03

6pts

حول الى الوحدة المطلوبة

$$45 \text{ cl} = \dots\dots\dots \text{ l}$$

$$9 \text{ cl} + 5 \text{ ml} = \dots\dots\dots \text{ dl}$$

$$2,56 \text{ hl} = \dots\dots\dots \text{ cl}$$

$$87 \text{ l} - 6 \text{ dal} = \dots\dots\dots \text{ l}$$

$$89 \text{ dal} = \dots\dots\dots \text{ hl}$$

$$4174 \text{ cl} = \dots\dots\dots \text{ hl}$$



الموسم الدراسي: 2022/2021
(: لأستاذة)
المستوى: السادس ابتدائي

الرياضيات

الاسم الكامل:

بتاريخ:/...../.....

01

3pts

ضع وأنجز ما يلي (1 pt x 3)

$$4\,521 + 486,25$$

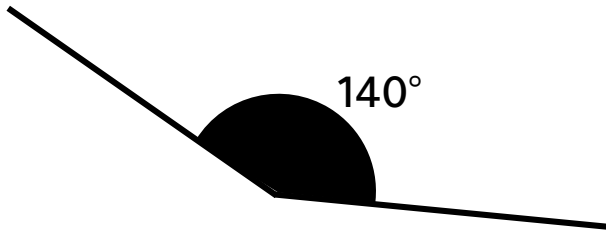
$$4\,852 - 123,98$$

$$742,5 \times 4,58$$

02

2pts

أنشئ منصف الزاوية ABC (2 pts)



دون استعمال المنقلة
حدد قياس الزاوية المحصل عليها

03

6pts

حول الى الوحدة المطلوبة

$$15dm^3 = \dots\dots\dots l$$

$$4hl + 7m^3 = \dots\dots\dots dal$$

$$142,3 hl = \dots\dots\dots cl$$

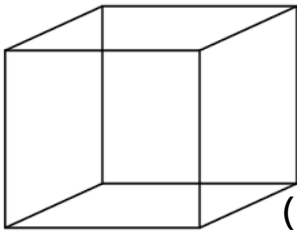
$$80l - 2dal = \dots\dots\dots l$$

$$230 dal = \dots\dots\dots hl$$

$$4\,400 cl = \dots\dots\dots hl$$

3pts

أفرغنا قنينة ماء سعتها 2l لتر في اناء مكعب الشكل قياس أحد أحرفه 12cm.
هل نستطيع افراغ القنينة بأكملها في الإناء (2 pts)



هل امتلأ الكوب عن آخره أم لا؟ إذا كان الجواب لا
فما حجم المجال الفارغ ب ml (cs)

2pts

وضع شخص مبلغا في بنك بسعر 15% وحصل بعد مضي سنة على نسبة فائدة قيمتها 4 500 درهما
ما رأسمال هذا الشخص؟ (2 pt x 1)

3pts

Le prix d'une télévision hors taxes est 5820dh
 * je calcule le prix de la télévision avec 15% de taxes (3 pt x 1)

1pt

الترجمة

Bissectrice :

رأسمال: